

Luyện tập 2 trang 81 Toán 6 Cánh Diều tập 2

Chủ đề: [[Giải toán 6 Cánh Diều](#)] - Chương 6. Hình học phẳng


Mời các em học sinh cùng tham khảo chi tiết gợi ý giải Luyện tập 2 trang 81 theo nội dung bài 2 "Hai đường thẳng cắt nhau. Hai đường thẳng song song" sách giáo khoa Toán 6 Cánh Diều tập 2 theo chương trình mới của Bộ GD&ĐT

Giải Luyện tập 2 trang 81 Toán 6 Cánh Diều tập 2

Câu hỏi

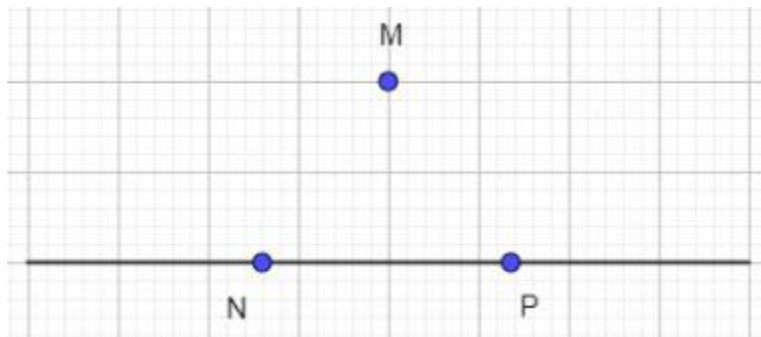
Cho ba điểm M, N, P như Hình 30.

- Vẽ đường thẳng NP.
- Vẽ hai đường thẳng đi qua M và cắt đường thẳng NP.

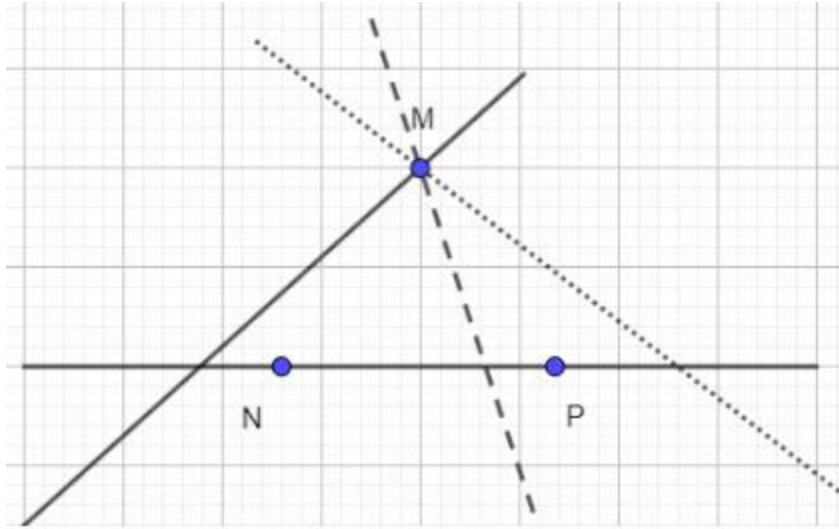


Giải

- Đường thẳng NP:



- Ta có thể vẽ được vô số đường thẳng qua M cắt đường thẳng NP:



-/-

Vậy là trên đây Đọc tài liệu đã hướng dẫn các em hoàn thiện phần giải bài tập SGK: Luyện tập 2 trang 81 Toán 6 Cánh Diều tập 2. Chúc các em học tốt.

- Trọn bộ [giải toán 6](#) -