






## [Bài 9.8 trang 76 Toán lớp 6 Tập 2 Kết nối tri thức](#)

Chủ đề: [\[Giải toán 6 sách kết nối tri thức với cuộc sống\]](#) tập 2 - Bài 39. Bảng thống kê và biểu đồ tranh. (Chương 9 - Dữ liệu và xác suất thực nghiệm).

Dưới đây Đọc tài liệu xin gợi ý trả lời Bài 9.8 trang 76 SGK Toán lớp 6 Tập 2 sách Kết nối tri thức với cuộc sống theo chuẩn chương trình mới của Bộ GD&ĐT:

### **Giải Bài 9.8 trang 76 Toán lớp 6 Tập 2 Kết nối tri thức**

**Câu hỏi :** Biểu đồ tranh sau đây cho biết số lượt ô tô vào gửi tại một bãi đỗ xe vào các ngày trong một tuần.

Thứ Hai	
Thứ Ba	
Thứ Tư	
Thứ Năm	
Thứ Sáu	

(Mỗi  ứng với 3 ô tô)

Hãy lập bảng thống kê biểu diễn số ô tô vào gửi tại bãi đỗ xe vào các ngày trong tuần.

#### **Giải**

Số ô tô gửi vào bãi đỗ xe vào thứ Hai là:

$$3 \cdot 5 = 15 \text{ (ô tô)}$$

Số ô tô gửi vào bãi đỗ xe vào thứ Ba là:

$$3 \cdot 7 = 21 \text{ (ô tô)}$$

Số ô tô gửi vào bãi đỗ xe vào thứ Tư là:

$$3 \cdot 3 = 9 \text{ (ô tô)}$$

Số ô tô gửi vào bãi đỗ xe vào thứ Năm là:

[Bài 9.8 trang 76 Toán lớp 6 Tập 2 Kết nối tri thức](#)

$$3. 4 = 12 \text{ (ô tô)}$$

Số ô tô gửi vào bãi đỗ xe vào thứ Sáu là:

$$3. 6 = 18 \text{ (ô tô)}$$

Do vậy, ta có bảng thống kê sau:

Thứ	Hai	Ba	Tư	Năm	Sáu
Số ô tô gửi bãi đỗ xe	15	21	9	12	18

-/-

Vậy là trên đây Đọc tài liệu đã hướng dẫn các em hoàn thiện phần [giải toán 6](#): Bài 9.8 trang 76 Toán lớp 6 Tập 2 Kết nối tri thức. Chúc các em học tốt.