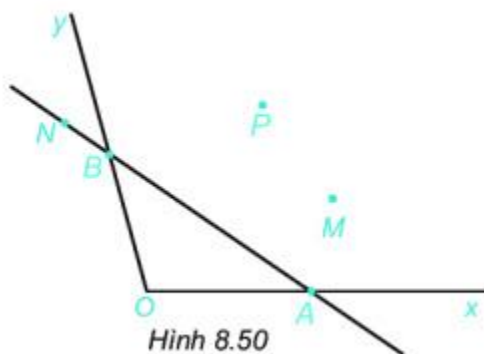


Chủ đề: [\[Giải toán 6 sách kết nối tri thức với cuộc sống\]](#) tập 2 - Bài 36. Góc

Dưới đây Đọc tài liệu xin gợi ý trả lời Luyện tập 2 trang 60 SGK Toán lớp 6 Tập 2 sách Kết nối tri thức với cuộc sống theo chuẩn chương trình mới của Bộ GD&ĐT:

Giải Luyện tập 2 trang 60 Toán lớp 6 Tập 2 Kết nối tri thức

Câu hỏi : Vẽ Hình 8.50 vào vở.



a) Kể tên các điểm nằm trong góc xOy,

b) Lấy điểm I thuộc đoạn thẳng AB, điểm K nằm trên đường thẳng AB nhưng không thuộc đoạn AB.

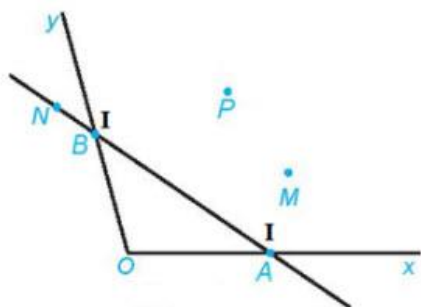
Hỏi điểm I có nằm trong góc xOy không? Điểm K có nằm trong góc xOy không?

Giải

a. Các điểm nằm trong góc xOy là: P; M.

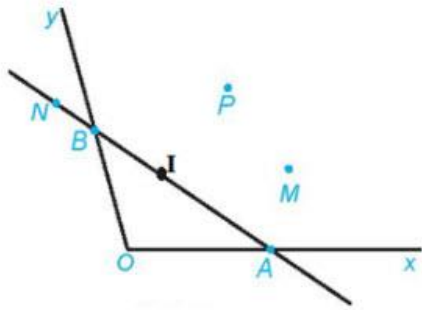
b.

- Nếu điểm I trùng với điểm A hoặc điểm B thì điểm I không nằm trong góc xOy.

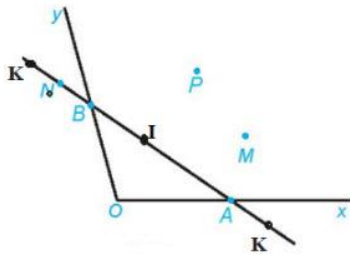


[Luyện tập 2 trang 60 Toán lớp 6 Tập 2 Kết nối tri thức](#)

- Nếu điểm I nằm trên đoạn thẳng AB nhưng không trùng với A và B thì điểm I nằm trong góc xOy.



- Nếu điểm K nằm trên đường thẳng AB nhưng không thuộc đoạn AB thì điểm K không nằm trong góc xOy.



-/-

Vậy là trên đây Đọc tài liệu đã hướng dẫn các em hoàn thiện phần [giải toán 6](#): Luyện tập 2 trang 60 Toán lớp 6 Tập 2 Kết nối tri thức. Chúc các em học tốt.