

[Bài 3 trang 117 Toán lớp 6 tập 1 \(Cánh Diều\)](#)

Chủ đề: [[Giải toán 6 Cánh Diều](#)] - Toán lớp 6 tập 1 - Chương III. Hình học trực quan

Mời các em học sinh cùng tham khảo chi tiết gợi ý giải Bài 3 trang 117 theo nội dung bài "Bài tập cuối chương III" sách giáo khoa Toán lớp 6 tập 1 sách Cánh Diều chương trình mới của Bộ GD&ĐT

Giải Bài 3 trang 117 Toán lớp 6 Tập 1 Cánh Diều

Hãy quan sát xung quanh và chỉ ra những hình:

- a) Có trục đối xứng.
- b) Có tâm đối xứng
- c) Vừa có trục đối xứng vừa có tâm đối xứng.


Giải

a) Một số hình có trục đối xứng:

+) Hoa văn trang trí trên gạch hoa



+) Hình con bướm



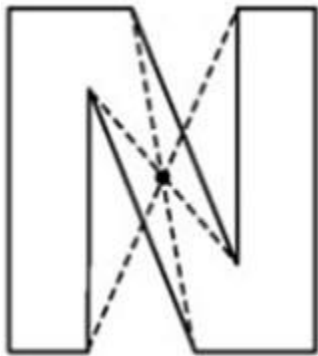
Bài 3 trang 117 Toán lớp 6 tập 1 (Cánh Diều)

b) Một số hình có tâm đối xứng:

+) Hình biển báo giao thông




+) Hình chữ N



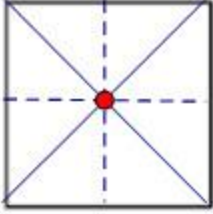
c) Một số hình vừa có tâm đối xứng vừa có trục đối xứng

+) Hình trang trí bông hoa



+) Hình vuông

Bài 3 trang 117 Toán lớp 6 tập 1 (Cánh Diều)



~/~

Vậy là trên đây Đọc tài liệu đã hướng dẫn các em hoàn thiện phần giải bài tập SGK Toán 6 Cánh Diều: Bài 3 trang 117 SGK Toán 6 Tập 1. Chúc các em học tốt.