

[Bài 5.11 trang 108 Toán lớp 6 Tập 1 \(Kết nối tri thức\)](#)

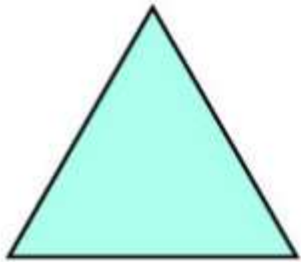
Chủ đề: [\[Giải toán 6 sách kết nối tri thức với cuộc sống\]](#) - Luyện tập chung trang 108.

Dưới đây Đọc tài liệu xin gợi ý giải bài tập Toán 6 với việc giải Bài 5.11 trang 108 SGK Toán lớp 6 Tập 1 sách Kết nối tri thức với cuộc sống theo chuẩn chương trình mới của Bộ GD&ĐT:

Giải Bài 5.11 trang 108 Toán lớp 6 Tập 1 Kết nối tri thức

Câu hỏi: Trong các hình bên, em hãy chỉ ra:

- a) Những hình có tâm đối xứng;
- b) Những hình có trục đối xứng.




Tam giác đều



Cánh quạt



Trái tim

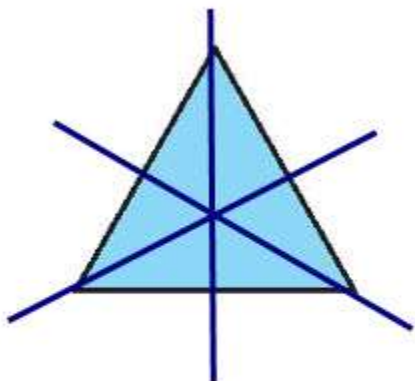


Cánh diều

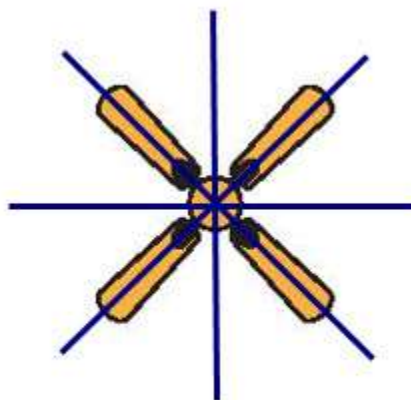
Giải

a) Hình có tâm đối xứng: cánh quạt


b) Những hình có trục đối xứng: tam giác đều (3 trục đối xứng), cánh quạt (4 trục đối xứng), trái tim (1 trục đối xứng), cánh diều (1 trục đối xứng).



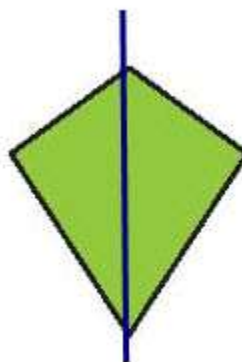
Tam giác đều



Cánh quạt



Trái tim



Cánh diều

-/-

Vậy là trên đây Đọc tài liệu đã hướng dẫn các em hoàn thiện phần giải bài tập SGK Toán 6 Kết nối tri thức: Bài 5.11 trang 108 SGK Toán 6 Tập 1. Chúc các em học tốt.