

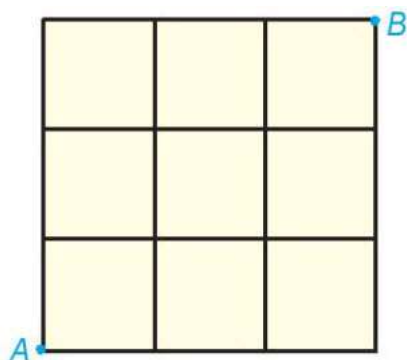
[Bài 4.6 trang 81 Toán lớp 6 Tập 1 \(Kết nối tri thức\)](#)

Chủ đề: [\[Giải toán 6 sách kết nối tri thức với cuộc sống\]](#) - Bài 18: Hình tam giác đều. hình vuông. hình lục giác đều.

Dưới đây Đọc tài liệu xin gợi ý trả lời Bài 4.6 trang 82 SGK Toán lớp 6 Tập 1 sách Kết nối tri thức với cuộc sống theo chuẩn chương trình mới của Bộ GD&ĐT:

Giải Bài 4.6 trang 82 Toán lớp 6 Tập 1 Kết nối tri thức

Câu hỏi: Quan sát hình dưới và chỉ ra ít nhất hai cách, để một con kiến bò từ A đến B theo đường chéo của các hình vuông nhỏ?

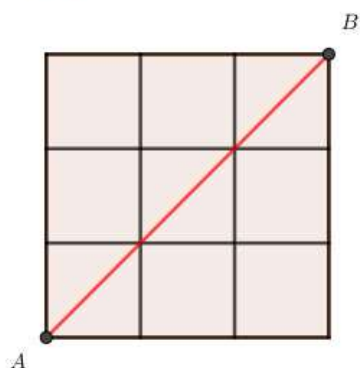


Giải

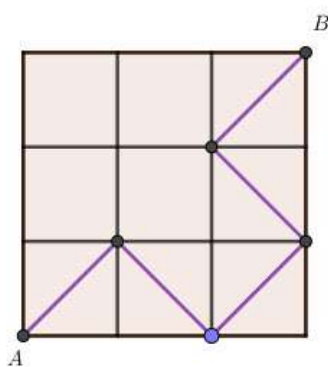
Có nhiều cách để con kiến bò từ A đến B theo đường chéo của hình vuông.

Ví dụ:

Cách 1:



Cách 2:



-/-

Vậy là trên đây Đọc tài liệu đã hướng dẫn các em hoàn thiện phần giải bài tập SGK Toán 6 Kết nối tri thức: Bài 4.6 trang 82 SGK Toán 6 Tập 1. Chúc các em học tốt.

