

Đề thi Toán lớp 2 học kỳ 1 - Mã đề 04

Đề thi số 4

(Thời gian làm bài 40 phút)

Bài 1: Khoanh tròn vào chữ cái trước câu trả lời đúng

1/ Số liền sau của 68 là:

A. 67

B. 69

C. 70

D. 71

2/ Số thích hợp vào chỗ ... là số nào?

$$50 - 16 + 66 = \dots$$

A. 90

B. 92

C. 98

D. 100

3/ Số lớn nhất trong các số: 58, 63, 71, 69

A. 58

B. 63

C. 71

D. 69

Bài 2: Đặt tính rồi tính

$$46 + 23$$

$$62 + 28$$

$$84 - 35$$

Đề thi Toán lớp 2 học kỳ 1 - Mã đề 04

$$100 - 58$$

Bài 3: Tìm x

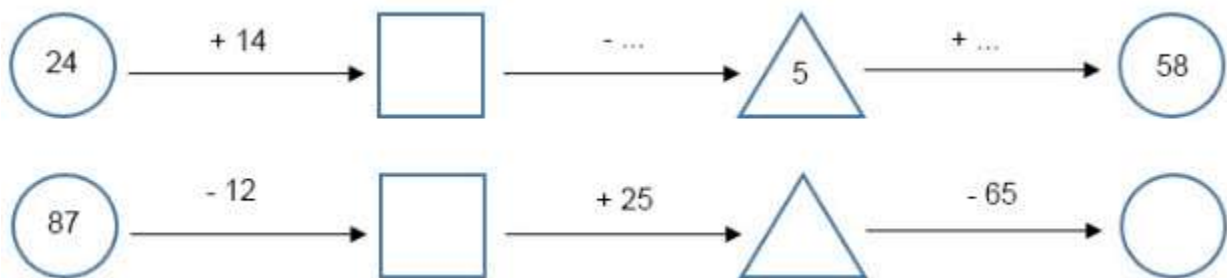
a. $56 - x = 38$

b. $x + 34 = 57$

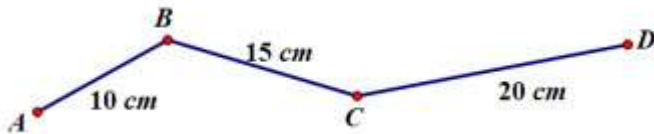
c. $x - 52 = 70 - 36$

Bài 4: Nhà Lan nuôi 50 con vừa gà và vịt, trong đó có 28 con gà. Hỏi nhà Lan nuôi bao nhiêu con vịt?

Bài 5: Số?



Bài 6: Tính độ dài đường gấp khúc ABCD.



Đề thi Toán lớp 2 học kỳ 1 - Mã đề 04

Đáp án

Bài 1:

1/ B. 69

2/ D. 100

3/ C. 71

Bài 2:

$$46 + 23 = 69$$

$$62 + 28 = 90$$

$$84 - 35 = 49$$

$$100 - 58 = 42$$

Bài 3:

a. $56 - x = 38$

$$x = 56 - 38$$

$$x = 18$$

b. $x + 34 = 57$

$$x = 57 - 34$$

$$x = 23$$

c. $x - 52 = 70 - 36$

$$x - 52 = 34$$

$$x = 34 + 52$$

$$x = 86$$

Bài 4:

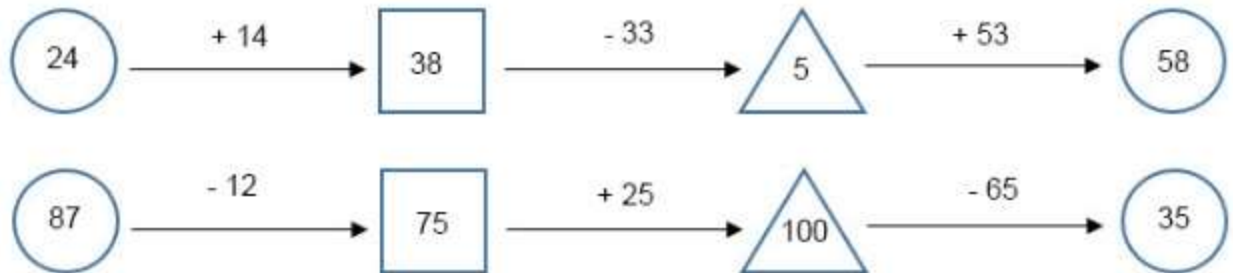
Nhà lan nuôi số con vịt là:

Đề thi Toán lớp 2 học kỳ 1 - Mã đề 04

$$50 - 28 = 22 \text{ (con)}$$

Đáp số: 22 con vịt.

Bài 5:



Bài 6: Độ dài đường gấp khúc ABCD là:

$$10 + 15 + 20 = 45 \text{ (cm)}$$

Đáp số: 45 cm.