

Đề thi Toán lớp 2 học kỳ 1 - Mã đề 17

Đề thi số 17

I. Trắc nghiệm

Khoanh vào chữ cái trước ý đúng trong mỗi câu sau:

Bài 1. Số liền trước 50 là

A. 49

B. 51

C. 48

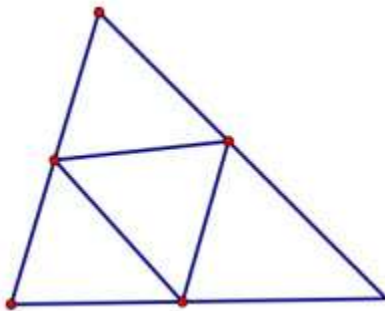
Bài 2. Số lớn nhất có hai chữ số là

A. 88

B. 99

C. 90

Bài 3. Hình vẽ bên có mấy hình tam giác?



A. 3

B. 4

C. 5

Bài 4. Câu nào đúng?

A. Một ngày có 24 giờ

B. Một ngày có 12 giờ

Đề thi Toán lớp 2 học kỳ 1 - Mã đề 17

C. Một ngày có 20 giờ

Bài 5. Tính tổng , biết các số hạng là 48 và 17.

A.56

B. 65

C. 45

Bài 6 . Tìm x :

$$x + 16 = 30$$

A.15

B. 16

C. 14

Bài 7 . Tính kết quả $86 - 6 - 9 = ?$

A.71

B. 70

C. 81

Bài 8 . Mẹ hái được 55 quả cam , mẹ biếu bà 20 quả cam . Hỏi mẹ còn lại bao nhiêu quả cam?

A .30 quả

B. 35 quả

C.25 quả

II. Tự luận :

Bài 1. Đặt tính rồi tính :

$$46 + 49$$

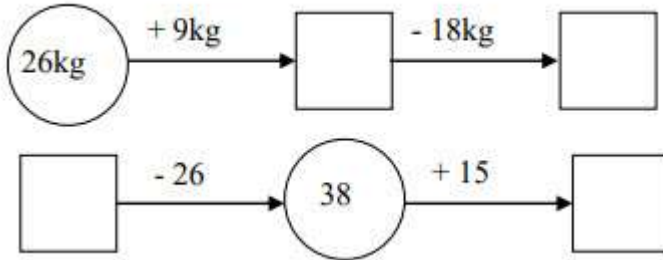
$$83 - 35$$

$$80 - 43$$

Đề thi Toán lớp 2 học kỳ 1 - Mã đề 17

$45 + 39$

Bài 2.



Bài 3. Tính

$34 + 66 - 20 =$

$85 - 15 + 12 =$

Bài 4 . Một cửa hàng buổi sáng bán được 83 lít dầu , buổi chiều bán được ít hơn buổi sáng 27 lít dầu . Hỏi buổi chiều cửa hàng đó bán được bao nhiêu lít dầu?

Bài 5 . Điền số còn thiếu vào ô trống

$$\begin{array}{r} 4\dots \\ - 17 \\ \hline 23 \end{array}$$

$$\begin{array}{r} \dots \\ - 37 \\ \hline 49 \end{array}$$

Đề thi Toán lớp 2 học kỳ 1 - Mã đề 17

Đáp án

I. Trắc nghiệm

1.A

2.B

3.C

4.A

5.B

6.C

7.A

8.B

II. TỰ LUẬN

Bài 1.

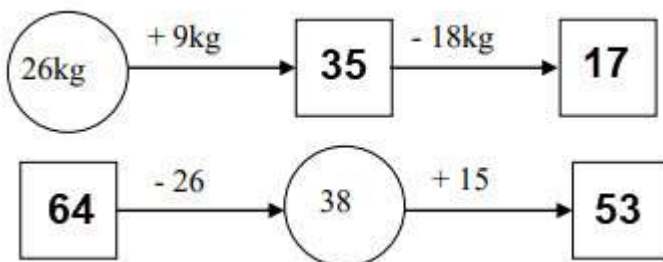
$$46 + 49 = 95$$

$$83 - 35 = 48$$

$$80 - 43 = 37$$

$$45 + 39 = 84$$

Bài 2.



Bài 3.

$$34 + 66 - 20 = 100 - 20 = 80$$

Đề thi Toán lớp 2 học kỳ 1 - Mã đề 17

$$85 - 15 + 12 = 70 + 12 = 82$$

Bài 4.

Số lít dầu buổi chiều bán được là :

$$83 - 27 = 56 \text{ (l)}$$

Đáp số: 56 lít dầu

Bài 5.

$$40 - 17 = 23$$

$$86 - 37 = 49$$