

Đề thi Toán lớp 2 học kỳ 1 năm 2019 - Mã đề 42

Đề thi

Bài 1: Đúng ghi Đ, sai ghi S vào chỗ trống

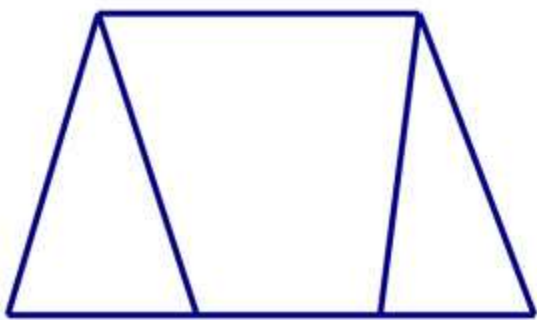
$$8 + 4 = 13 \quad \dots$$

$$15 - 9 = 6 \quad \dots$$

$$7 + 9 = 16 \quad \dots$$

$$13 - 6 = 8 \quad \dots$$

Bài 2: Khoanh vào chữ đặt trước kết quả đúng:



a) Số hình tam giác có trong hình vẽ là:

A. 1

B. 2

C. 3

D. 4

b) Số hình tứ giác trong hình vẽ là:

A. 1

B. 2

C. 3

D. 4

Đề thi Toán lớp 2 học kỳ 1 năm 2019 - Mã đề 42

Bài 3: Đặt tính rồi tính

$$46 + 35$$

$$53 - 28$$

$$36 + 54$$

$$80 - 47$$

Bài 4: Viết số liền trước, liền sau vào chỗ chấm thích hợp.

Số liền trước	Số đã cho	Số liền sau
.....	23
.....	70

Bài 5: Lớp 2A trồng được 48 cây, lớp 2B trồng được nhiều hơn lớp 2A là 12 cây. Hỏi lớp 2B trồng được bao nhiêu cây?

Bài giải

.....

.....

.....

Bài 6: Tìm x:

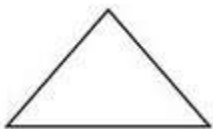
$$x - 15 = 43$$

$$x = \dots\dots\dots$$

$$x = \dots\dots\dots$$

Bài 7: Nối mỗi hình với tên gọi của hình đó.

Đề thi Toán lớp 2 học kỳ 1 năm 2019 - Mã đề 42



Hình chữ nhật

Hình tam giác

Hình tứ giác

Hình vuông

Đề thi Toán lớp 2 học kỳ 1 năm 2019 - Mã đề 42

Đáp án

Bài 1:

$$8 + 4 = 13 \quad \underline{S}$$

$$15 - 9 = 6 \quad \underline{Đ}$$

$$7 + 9 = 16 \quad \underline{Đ}$$

$$13 - 6 = 8 \quad \underline{S}$$

Bài 2:

a) B

b) D

Bài 3:

$$46 + 35 = 81$$

$$53 - 28 = 25$$

$$36 + 54 = 90$$

$$80 - 47 = 33$$

Bài 4: Viết số liền trước, liền sau vào chỗ chấm thích hợp.

Số liền trước	Số đã cho	Số liền sau
22	23	24
69	70	71

Bài 5:

Bài giải

Lớp 2B trồng được số cây là:

$$48 + 12 = 60 \text{ (cây)}$$

Đề thi Toán lớp 2 học kỳ 1 năm 2019 - Mã đề 42

Đáp số: 60 cây

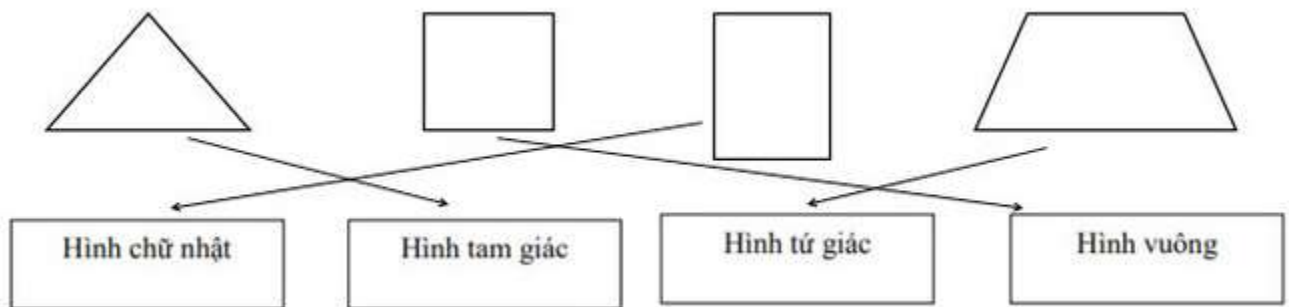
Bài 6:

$$x - 15 = 43$$

$$x = 43 + 15$$

$$x = 58$$

Bài 7



-Hết-