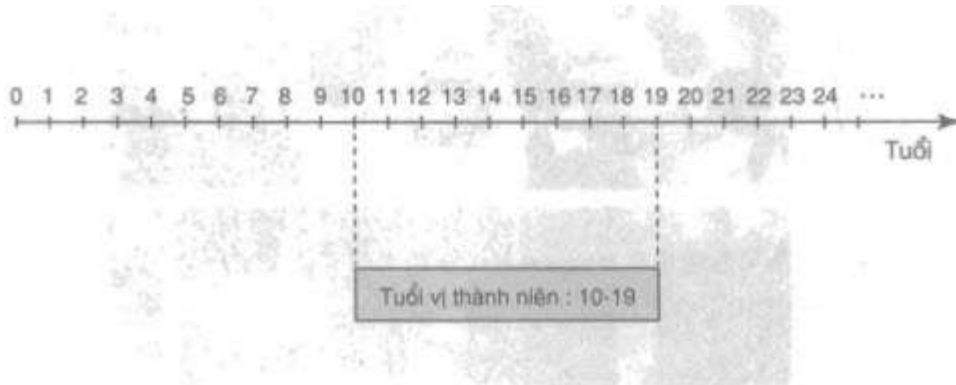


TRẢ LỜI CÂU HỎI TRANG 42 SGK KHOA HỌC 5

Câu hỏi

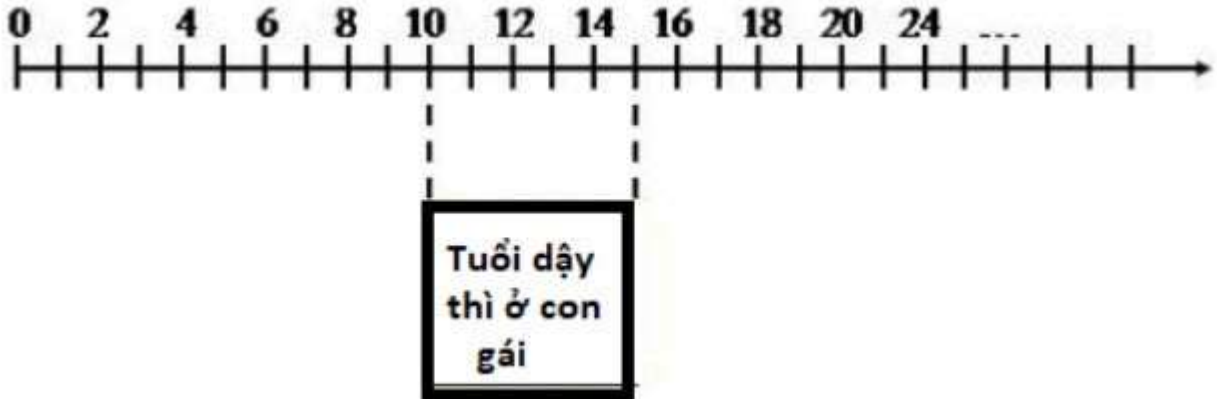
Sơ đồ dưới đây thể hiện lứa tuổi vị thành niên. Bạn hãy vẽ sơ đồ thể hiện lứa tuổi dậy thì ở con gái và con trai.

Giải bài tập khoa học lớp 5 bài 20 - 21



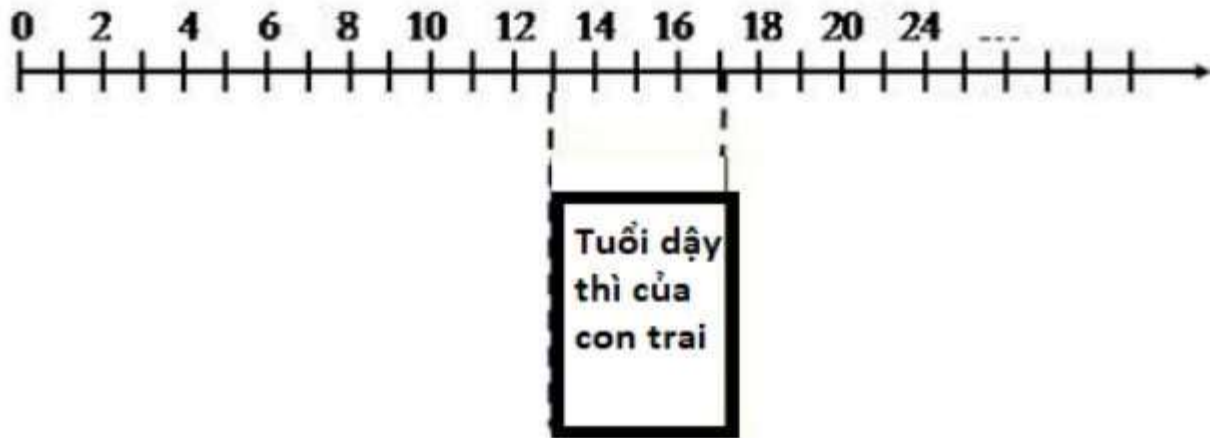
Trả lời

Sơ đồ thể hiện lứa tuổi dậy thì ở con gái:



Sơ đồ thể hiện lứa tuổi dậy thì ở con trai:

TRẢ LỜI CÂU HỎI TRANG 42 SGK KHOA HỌC 5



Xem thêm

>>> Bài trước: [Câu hỏi bài 19 SGK Khoa học 5](#)

>>> Bài tiếp theo: [Trả lời câu hỏi trang 43 SGK Khoa học 5](#)