

GIẢI TẬP BẢN ĐỒ ĐỊA LÍ LỚP 12 – BÀI 2 TRANG 68

Câu hỏi

Dựa vào bảng số liệu, hãy tính % và điền tiếp vào bảng dưới, sau đó vẽ biểu đồ thể hiện quy mô đàn trâu, bò của cả nước và cơ cấu của chúng phân theo vùng năm 1995 và 2008.

Lời giải Bài 2 trang 68 Tập bản đồ Địa Lí lớp 12

Số lượng đàn trâu, bò của hai vùng và của cả nước (nghìn con)

Năm		1995	2008
Đàn trâu	Trung du và miền núi Bắc Bộ	1.530 (51,6%)	1.689 (58,3%)
	Tây Nguyên	69 (2,3%)	87 (3,0%)
	Cả nước	2.963 (100%)	2.898 (100%)
Đàn bò	Trung du và miền núi Bắc Bộ	548 (15,1%)	1.086 (17,1%)
	Tây Nguyên	437 (12,0%)	721 (11,4%)
	Cả nước	3.639 (100%)	6.338 (100%)

- Xử lí số liệu (tính % và điền vào cột trống ở bảng trên)

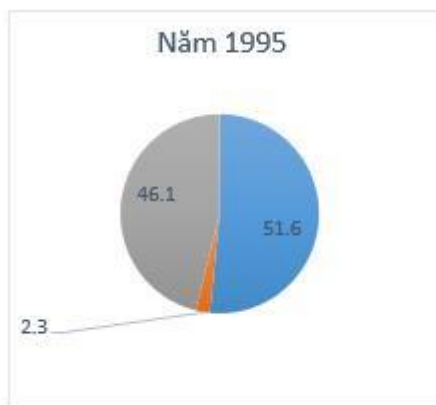
- Tính r:

Trâu: Nếu lấy bán kính (r) của vòng tròn thể hiện năm 1995 là r = 1.0 thì bán kính của vòng tròn thể hiện năm 2008 là:

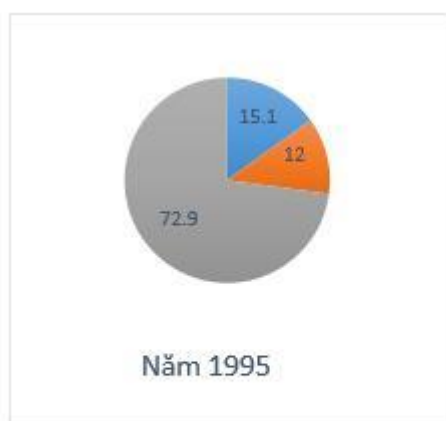
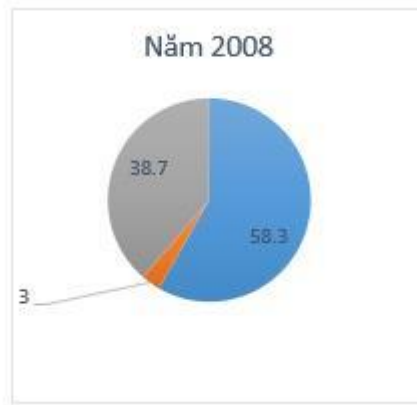
$$r = \frac{\sqrt{2898}}{2963} = 0,99$$

Bò: Nếu lấy bán kính (r) của vòng tròn thể hiện năm 1995 là r = 1.0 thì bán kính của vòng tròn thể hiện năm 2008 là:

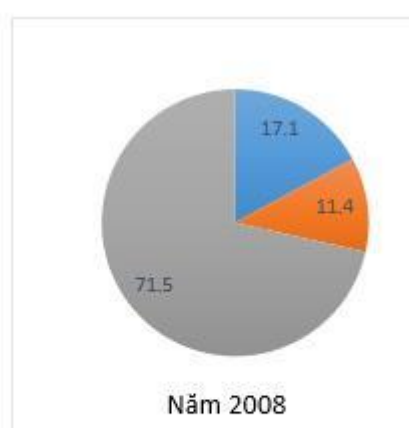
$$r = \frac{\sqrt{6338}}{3639} = 1,32$$



TRÂU



BÒ



Trung du miền núi Bắc Bộ
 Tây Nguyên
 Các vùng khác

Biểu đồ thể hiện quy mô đàn trâu, bò của cả nước và cơ cấu của chúng phân theo vùng năm 1995 và 2008.

Để giúp các em học tốt môn [Địa lí lớp 12](#) một cách dễ dàng và chuẩn bị cho cả các kì thi cuối cấp quan trọng, doctailieu.com tổng hợp và chia sẻ cho các em học sinh nội dung [Giải bài tập Tập bản đồ Địa lí lớp 12](#) ngắn gọn, chính xác nhất. Chúc các em học tốt môn Địa lí.