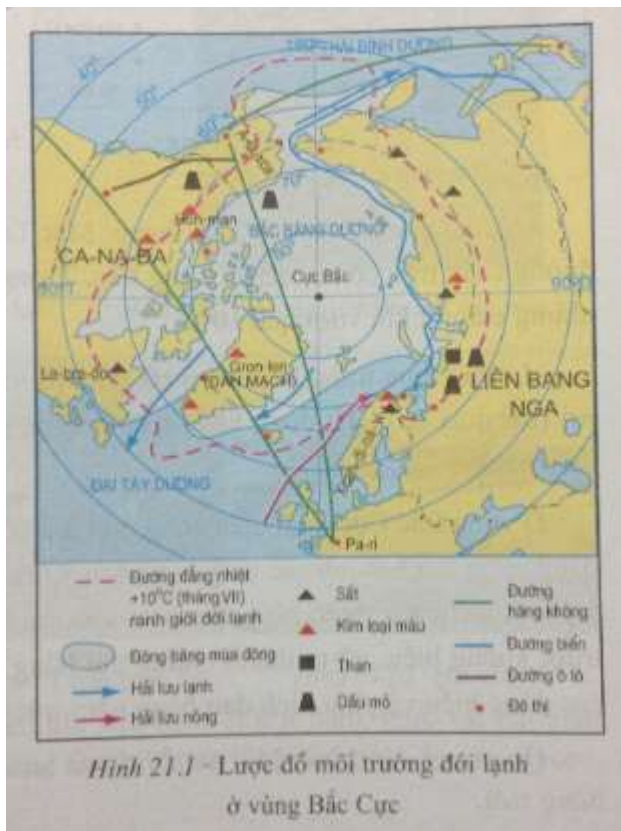


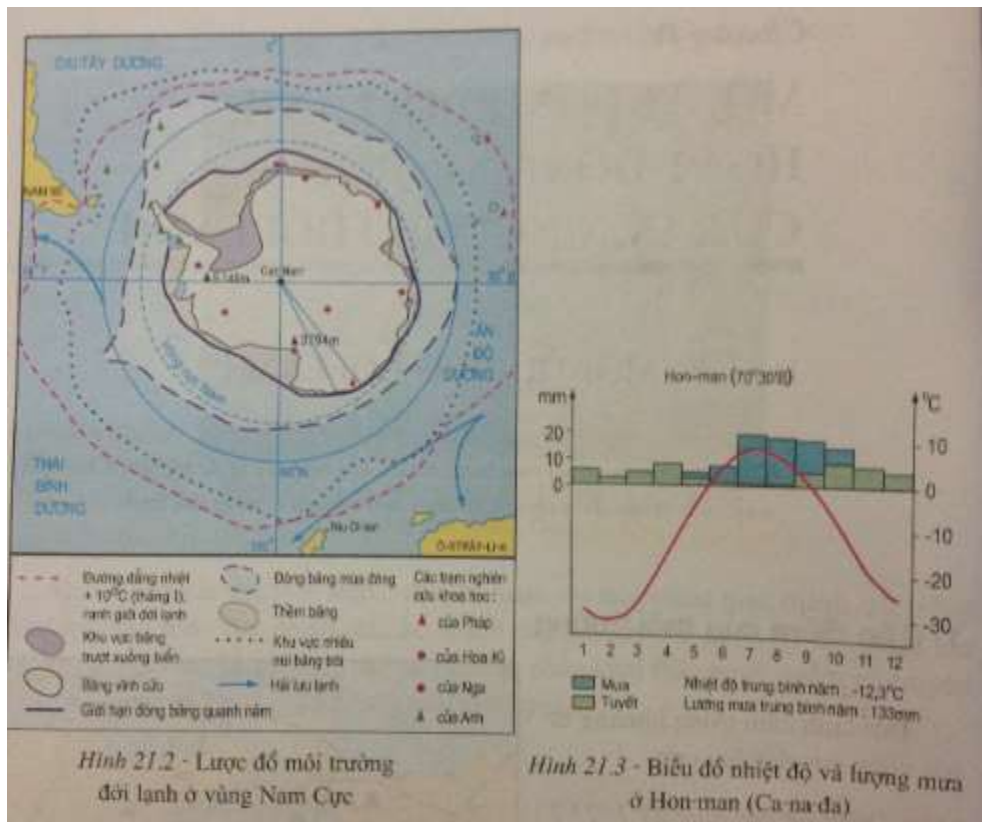
# CÂU HỎI BÀI 21 TRANG 67 SGK ĐỊA 7

## | GIẢI BÀI TẬP SGK ĐỊA LÍ LỚP 7 |

### Câu hỏi trang 67

Quan sát các hình 21.1, 21.2 và 21.3, hãy:





- Tìm ranh giới của môi trường đới lạnh ở hai bán cầu.
- Nêu diễn biến nhiệt độ và lượng mưa trong năm ở đới lạnh.


### ĐÁP ÁN

- Ranh giới của môi trường đới lạnh ở hai bán cầu:
  - + Môi trường đới lạnh nằm từ đường vòng cực đến hai cực.
  - + Đới lạnh ở Bắc Cực là đại dương, còn ở Nam Cực là lục địa.
- Diễn biến nhiệt độ và lượng mưa trong năm ở đới lạnh (Hon – man – Ca – na - đạ):
  - + Nhiệt độ tháng cao nhất (tháng VII) dưới 10°C, nhiệt độ tháng thấp nhất (tháng II) dưới - 30°C. Số tháng có nhiệt độ trên 0°C: 3,5 tháng (từ tháng VI đến giữa tháng IX), số tháng có nhiệt độ dưới 0°C: 8,5 tháng (từ giữa tháng IX đến tháng V). Biên độ nhiệt năm cao (đến 40°C). Nhìn chung , khí hậu ở đới lạnh quanh năm lạnh lẽo, chỉ có từ 3 đến 3,5 tháng mùa hạ, nhưng cũng không bao giờ nóng đến 10°C.

+ Lượng mưa trung bình năm 133mm, các tháng mưa nhiều nhất (hai tháng VII và VIII) không quá 20mm/tháng, các tháng còn lại mưa ít (dưới 20mm/tháng và chủ yếu dưới dạng tuyết rơi). Nhìn chung lượng mưa ở đới lạnh rất thấp, phần lớn dưới dạng tuyết rơi.

### Câu hỏi trang 68

Quan sát các hình 21.4 và 21.5, so sánh sự khác nhau giữa núi băng và băng trôi.



### ĐÁP ÁN

- Núi băng là một khối băng khổng lồ
  - Băng trôi là những tảng băng có kích thước to nhỏ khác nhau, nhưng nhỏ hơn núi băng
- » Xem tiếp [Bài 1 trang 70 SGK Địa 7](#)

-----

Mời các em tham khảo hướng dẫn giải Địa 7: [Chương 4: Môi trường đới lạnh. Hoạt động kinh tế của con người ở đới lạnh](#) cùng đáp án các dạng bài tập SGK [Địa lí lớp 7](#) khác tại [doctailieu.com](http://doctailieu.com)