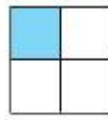


## Bài 5 trang 153 SGK Toán 4

**Đề bài:**

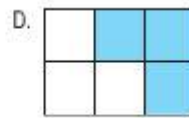
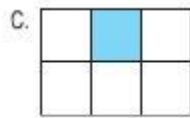
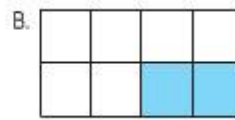
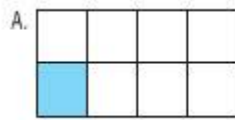
Khoanh và chữ đặt trước hình thích hợp :

**Lời giải:**



Hình H

Phân số chỉ phần đã tô màu của hình H bằng phân số chỉ phần đã tô màu của hình :



Ta tô màu  $\frac{1}{4}$  hình H.

Và đã tô màu  $\frac{1}{8}$  hình ở A;

$\frac{2}{8}$  (tức  $\frac{1}{4}$ ) hình ở B;

$\frac{1}{6}$  hình ở C và  $\frac{3}{6}$  (tức  $\frac{1}{2}$ ) ở hình D.

Vậy ta khoanh vào B.

Hoặc : Khoanh vào B vì H cho biết  $\frac{1}{4}$  số ô vuông đã tô màu, ở hình B có  $\frac{2}{8}$  (hay  $\frac{1}{4}$ ) số ô vuông được tô màu.