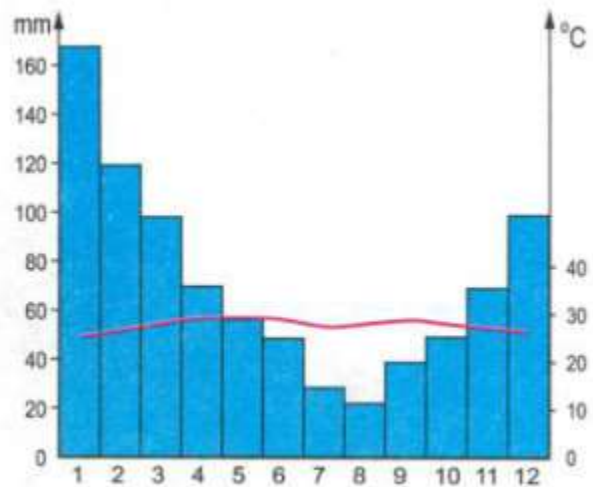


BÀI 2 TRANG 40 SGK ĐỊA 7

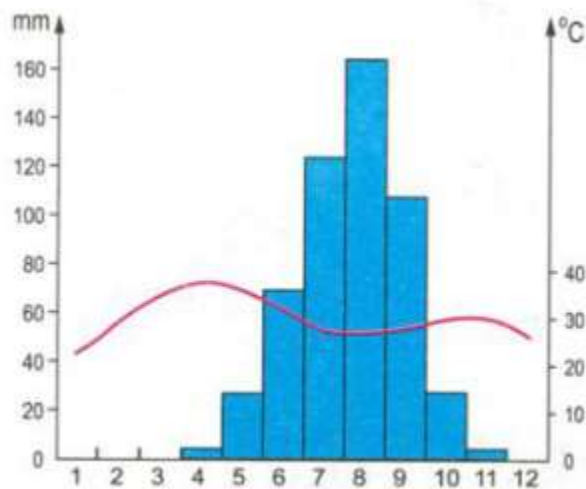
| GIẢI BÀI TẬP SGK ĐỊA LÍ LỚP 7 |

Đề bài

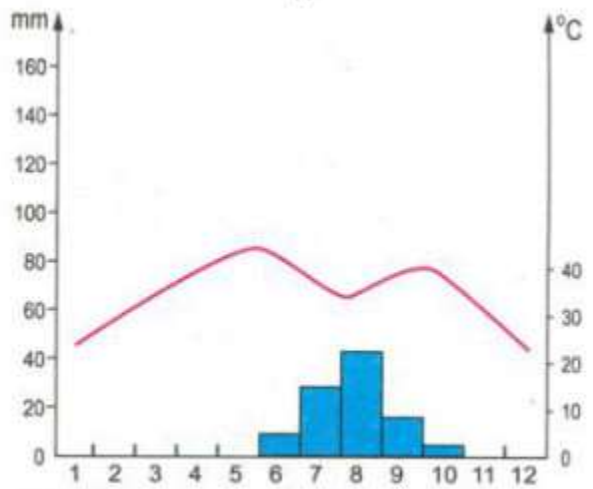
Trong ba biểu đồ nhiệt độ và lượng mưa dưới đây, hãy chọn biểu đồ phù hợp (trang 40 SGK) với ảnh xavan kèm theo.



A



B



C

» Ôn tập [Bài 1 trang 39 SGK Địa 7](#)

HƯỚNG DẪN GIẢI

Bức ảnh xavan là đại diện cho môi trường nhiệt đới được đặc trưng bởi nhiệt độ cao quanh năm, trong năm có một thời kì khô hạn (3-9 tháng); lượng mưa trung bình năm từ 500-1500mm

⇒ Biểu đồ có các đặc điểm trên là B là biểu đồ phù hợp với bức ảnh xavan kèm theo

» Xem tiếp [Bài 3 trang 40 SGK Địa 7](#)

Xem thêm đầy đủ đáp án các bài tập trong [Chương I: Môi trường đới nóng. Hoạt động kinh tế của con người ở đới nóng](#) - sgk Địa 7 hoặc hướng dẫn giải các dạng bài tập [Địa lí lớp 7](#) khác tại doctailieu.com