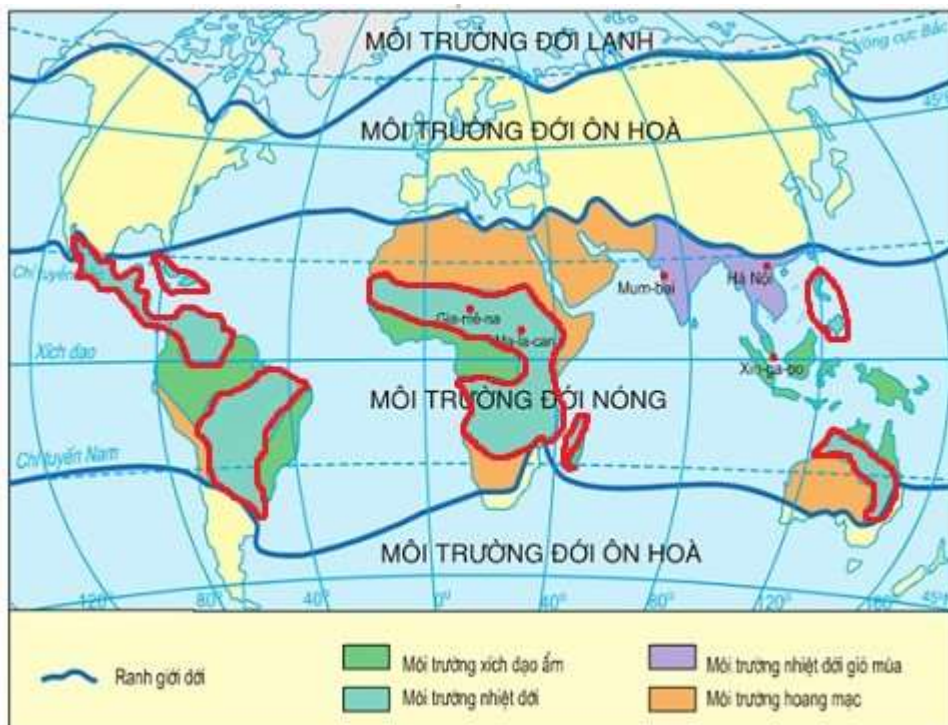


CÂU HỎI BÀI 7 SGK ĐỊA 7

| GIẢI BÀI TẬP SGK ĐỊA LÍ LỚP 7 |

Câu hỏi 1 bài 7 trang 23 SGK Địa 7

Xác định vị trí của môi trường nhiệt đới gió mùa trên hình 5.1



ĐÁP ÁN

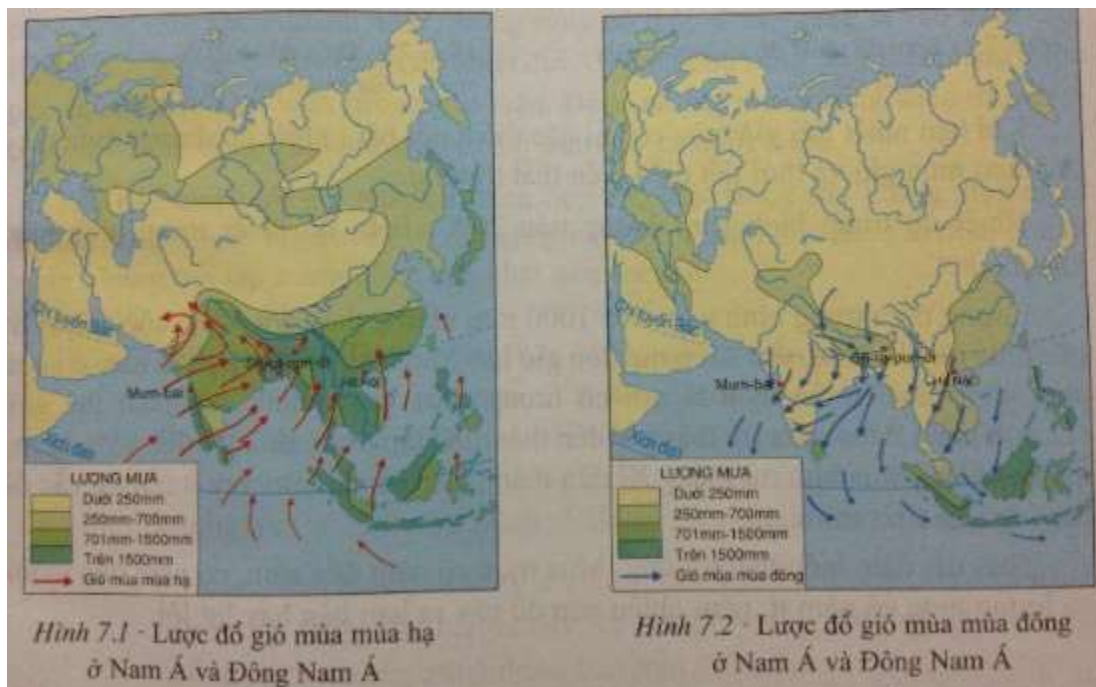
Dựa vào bảng chú giải trên bản đồ để xác định:

Môi trường nhiệt đới gió mùa chủ yếu nằm ở Nam Á và Đông Nam Á, kí hiệu màu tím (được khoanh đỏ trên lược đồ)

Câu hỏi 2 bài 7 trang 23 SGK Địa 7

Quan sát hình 7.1 và 7.2 SGK tr 23, hãy :

Nhận xét về hướng gió thổi vào mùa hạ và mùa đông của khu vực Nam Á, Đông Nam Á. Tại sao lượng mưa ở các khu vực này lại có sự chênh lệch rất lớn giữa mùa hạ và mùa đông?



ĐÁP ÁN

- Ở khu vực Nam Á và Đông Nam Á:

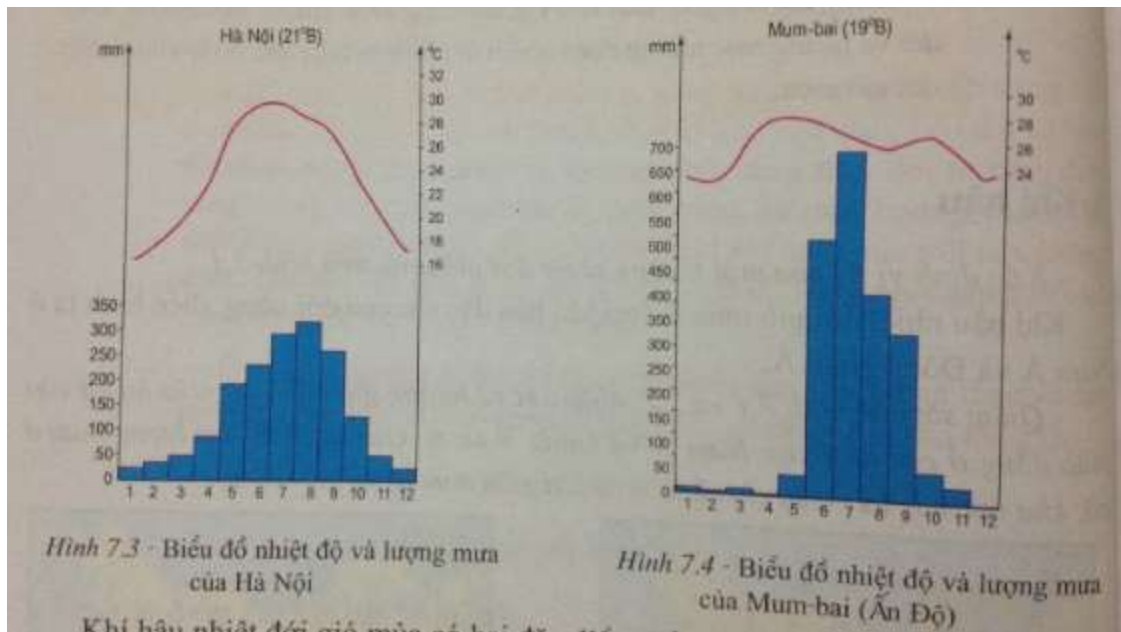
+ Mùa hạ gió thổi từ biển Ấn Độ Dương và Thái Bình Dương vào, chủ yếu theo hướng tây nam và đông nam.

+ Mùa đông gió thổi từ lục địa châu Á ra, chủ yếu theo hướng bắc và đông bắc.

- Lượng mưa chênh lệch lớn giữa mùa hạ và mùa đông vì mùa hạ gió thổi từ Ấn Độ Dương và Thái Bình Dương vào, đem theo không khí ẩm, gây mưa lớn; mùa đông gió thổi từ lục địa ra, đem theo không khí khô và lạnh, ít mưa.

Câu hỏi bài 7 trang 24 SGK Địa 7

Quan sát các biểu đồ nhiệt độ và lượng mưa của Hà Nội và Mum-bai (Ấn Độ), qua đó nêu nhận xét về diễn biến nhiệt độ, lượng mưa trong năm của khí hậu nhiệt đới gió mùa. Diễn biến nhiệt độ trong năm ở Hà Nội có gì khác ở Mum-bai?



ĐÁP ÁN

* Diễn biến nhiệt độ, lượng mưa trong năm của khí hậu nhiệt đới gió mùa:

- Nhiệt độ:

+ Nhiệt độ trung bình năm trên 20°C.

+ Biên độ nhiệt năm lớn (ở Hà Nội là 13°C; Mum-bai là 5°C).

+ Nhiệt độ có sự biến động theo mùa trong năm

- Lượng mưa:

+ Lượng mưa trung bình năm trên 1000 mm.

+ Mưa phân mùa rõ rệt: các tháng mùa mưa tập trung từ tháng 6 – 10, chiếm > 80% lượng mưa cả năm.

* So sánh hai trạm khí hậu Hà Nội và Mum-bai:

a) Giống nhau

- Không có tháng nào nhiệt độ quá thấp.

- Mưa tập trung vào 1 mùa (từ tháng 6 đến tháng 10).

- Nhiệt độ và lượng mưa thay đổi theo mùa.

b) Khác nhau

- Về nhiệt độ :

+ Hà Nội có tới 3 tháng nhiệt độ dưới 20°C , mùa hè nhiệt độ tháng cao nhất lên đến 30°C , biên độ nhiệt năm dao động tới 12- 13 $^{\circ}\text{C}$.

+ Mum-bai không có tháng nào nhiệt độ dưới 20°C , nhiệt độ tháng thấp nhất là 23°C → nóng quanh năm, có 2 cực đại.

- Về lượng mưa : Mum-bai lượng mưa lớn, hầu như chỉ tập trung từ tháng 6 đến tháng 9, mùa khô rất sâu sắc. Hà Nội, mùa khô không quá khô.

Câu hỏi bài 7 trang 25 SGK Địa 7

Nhận xét sự thay đổi cảnh sắc thiên nhiên giữa hai ảnh dưới đây (Hình 7.5 và hình 7.6 trang 25 sgk Địa lí 7)



Hình 7.5 - Rừng cao su vào mùa mưa



Hình 7.6 - Rừng cao su vào mùa khô

ĐÁP ÁN

Hình 7.5: Rừng cao su vào mùa mưa có lá cây phát triển xanh tốt.

- Hình 7.6: Rừng cao su vào mùa khô có lá cây chuyển sang màu vàng, đây là thời kỳ rụng lá của cây.

» Xem tiếp [Bài 1 trang 25 SGK Địa 7](#)

» Truy cập doctailieu.com để cập nhật đầy đủ đáp án các bài tập trong [Chương I: Môi trường đới nóng. Hoạt động kinh tế của con người ở đới nóng](#) - sgk Địa 7 hoặc hướng dẫn giải các dạng bài tập [Địa lí lớp 7](#) khác.