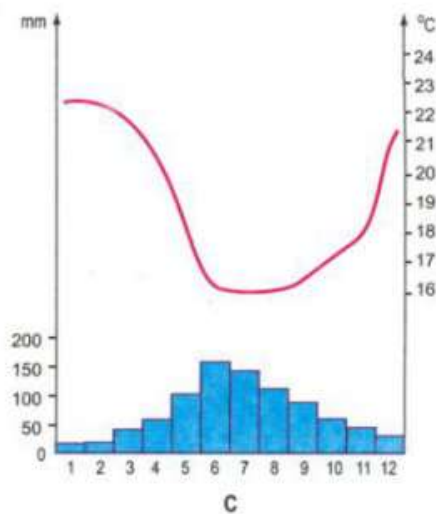
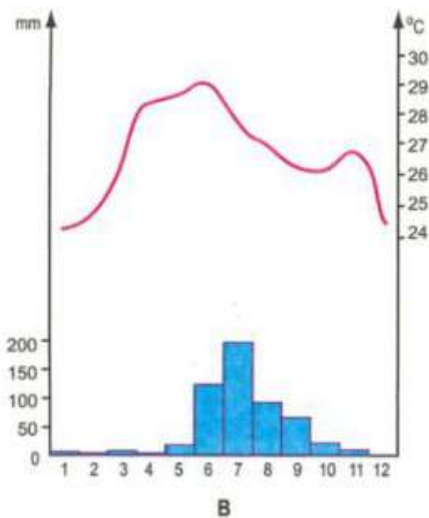
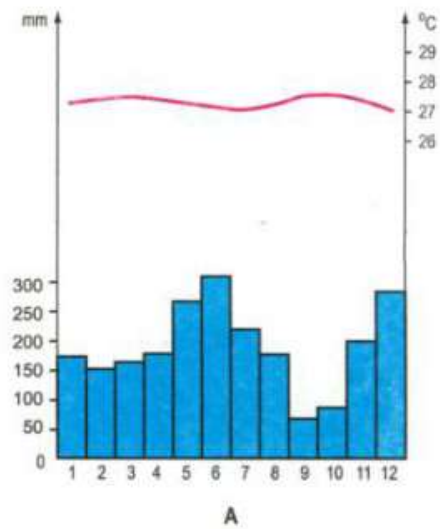


BÀI 4 TRANG 19 SGK ĐỊA 7

| GIẢI BÀI TẬP SGK ĐỊA LÍ LỚP 7 |

Đề bài

Trong ba biểu đồ nhiệt độ và lượng mưa (hình A, B, C trang 19 sgk Địa lí 7), biểu đồ nào phù hợp với ảnh chụp cảnh rừng kèm theo? Giải thích vì sao em chọn biểu đồ đó?



» Ôn tập [Bài 3 trang 18 SGK Địa 7](#)

HƯỚNG DẪN GIẢI

Biểu đồ A phù hợp với bức ảnh.

Giải thích:

- Bức ảnh thể hiện rừng nhiều tầng rậm rạp, tán lá xanh tốt và có nhiều cây leo. Đây là kiểu hệ sinh thái đặc trưng của môi trường xích đạo ẩm (nhiệt độ độ ẩm lớn, mưa nhiều).

- Quan sát biểu đồ ta thấy :

+ Biểu đồ A có nhiệt độ cao quanh năm (trên 27°C), biên độ nhiệt thấp ($1^{\circ} - 2^{\circ}\text{C}$), mưa quanh năm, lượng mưa lớn.

+ Biểu đồ B cũng có nhiệt độ cao nhưng biên độ nhiệt năm lớn ($5^{\circ} - 6^{\circ}\text{C}$), lượng mưa ít.

+ Biểu đồ C nhiệt độ không cao, biên độ nhiệt năm lớn ($5^{\circ} - 6^{\circ}\text{C}$), lượng mưa không nhiều.

» Truy cập doctailieu.com để cập nhật đầy đủ đáp án các bài tập trong [Chương I: Môi trường đới nóng. Hoạt động kinh tế của con người ở đới nóng](#) - sgk Địa 7 hoặc hướng dẫn giải các dạng bài tập [Địa lí lớp 7](#) khác.