

GIẢI CÂU HỎI ÔN TẬP TRANG 125

SGK TOÁN 8 TẬP 2

Câu hỏi 1

Hãy quan sát phần trong của lớp học rồi chỉ ra:

- a) Các đường thẳng song song với nhau
- b) Các đường thẳng cắt nhau
- c) Các mặt phẳng song song với nhau
- d) Các đường thẳng vuông góc với nhau
- e) Các đường thẳng vuông góc với các mặt phẳng
- f) Các mặt phẳng vuông góc với nhau

TRẢ LỜI

Học sinh quan sát trên thực tế

Câu hỏi 2

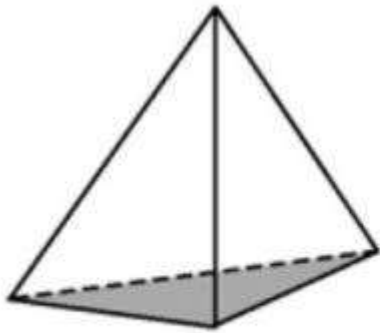
- a) Hình lập phương có mấy mặt, mấy cạnh, mấy đỉnh ? Các mặt là những hình gì?
- b) Hình hộp chữ nhật có mấy mặt, mấy cạnh, mấy đỉnh ?
- c) Hình lăng trụ đứng tam giác có mấy cạnh, mấy đỉnh , mấy mặt?

TRẢ LỜI

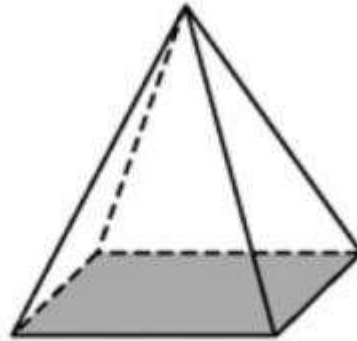
- a) Hình lập phương có 6 mặt, 12 cạnh, 8 đỉnh. Các mặt là những hình vuông
- b) Hình hộp chữ nhật có 6 mặt, 12 cạnh, 8 đỉnh.
- c) Hình lăng trụ đứng tam giác có 12 cạnh, 8 đỉnh , 6 mặt

Câu hỏi 3

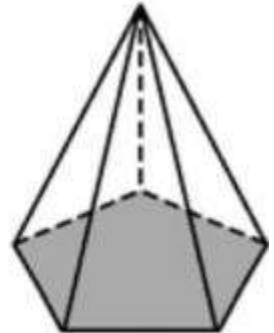
Hãy gọi tên các hình chóp theo những hình vẽ dưới đây



Hình 138



Hình 139



Hình 140

TRẢ LỜI

Hình 138: Hình chóp tam giác

Hình 139: Hình chóp tứ giác

Hình 140: Hình chóp ngũ giác

Xem tiếp [Bài 51 trang 127 SKG Toán 8 tập 2](#)

Mời các em tham khảo thêm hướng dẫn giải các bài tập trong chương 4: [Hình lăng trụ đứng](#), [Hình chóp đều](#) hoặc các bài khác trong chương trình [Toán 8](#) tại doctailieu.com