

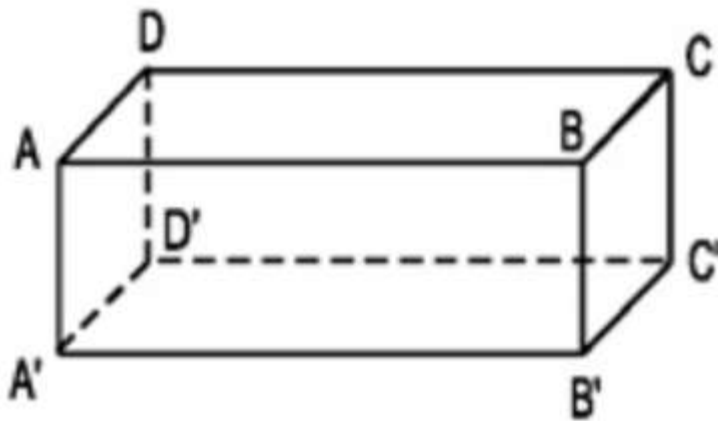
GIẢI CÂU HỎI BÀI 2 TRANG 99

SGK TOÁN 8 TẬP 2

Đề bài

Quan sát hình hộp chữ nhật ở hình 77:

- AB có song song với $A'B'$ hay không? Vì sao?
- AB có nằm trong mặt phẳng $(A'B'C'D')$ hay không?



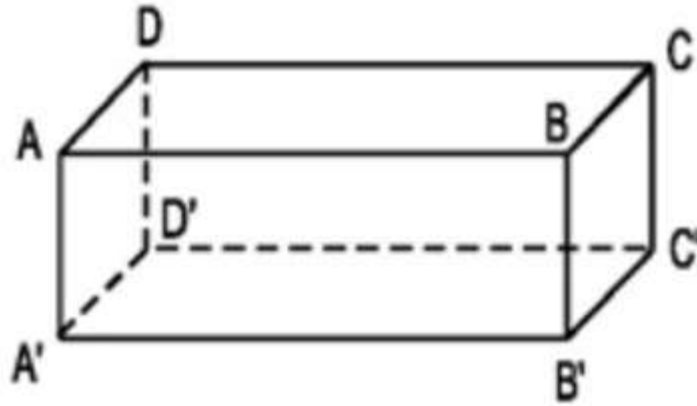
Hình 77

HƯỚNG DẪN GIẢI

- AB có song song với $A'B'$ vì là hai cạnh đối nhau của hình chữ nhật $ABB'A'$
- AB không nằm trong mặt phẳng $(A'B'C'D')$

Đề bài

Tìm trên hình 77 các đường thẳng song song với mặt phẳng $(A'B'C'D')$.



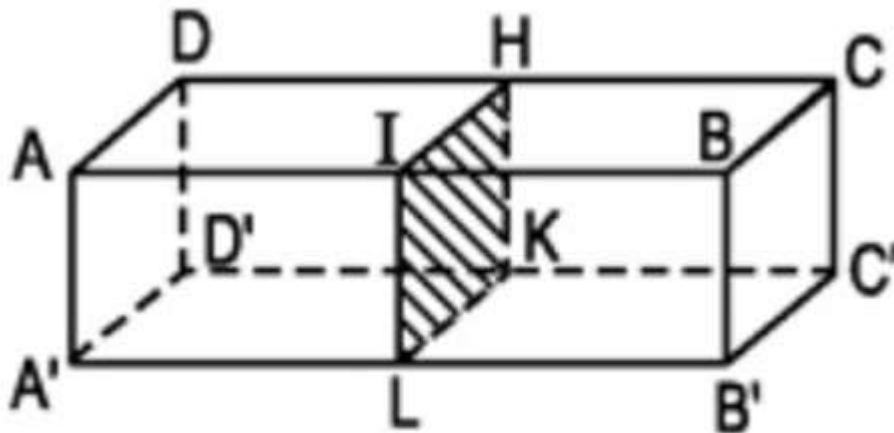
Hình 77

HƯỚNG DẪN GIẢI

Các đường thẳng song song với mặt phẳng $(A'B'C'D')$: AB, BC, CD, DA

Đề bài

Trên hình 78 có những cặp mặt phẳng nào song song với nhau?



Hình 78

HƯỚNG DẪN GIẢI

Những cặp mặt phẳng nào song song với nhau:

(ABCD) // (A'B'C'D'), (ADD'A') // (IHKL), (IHKL) // (BCC'B'), (ADD'A') // (BCC'B'), (ABB'A') // (DCC'D')