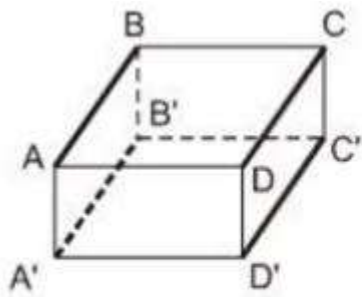


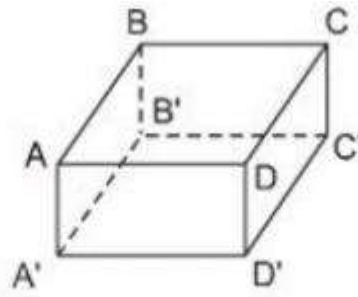
GIẢI BÀI 5 TRANG 100 SGK TOÁN 8 TẬP 2

Đề bài

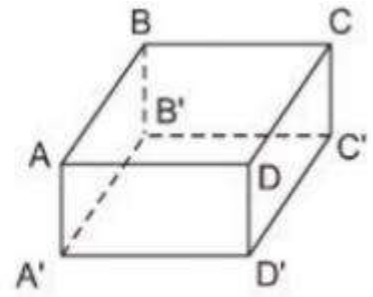
Người ta tô đậm những cạnh song song và bằng nhau của một hình hộp chữ nhật như ở hình 80a. Hãy thực hiện điều đó với hình 80b và 80c.



a)



b)



c)

HƯỚNG DẪN GIẢI

Các cạnh song song và bằng nhau của một hình hộp chữ nhật trên hình 80b, 80c là:

+ BC ; B'C' ; AD ; A'D'

+ AB ; CD ; A'B' ; C'D'

Các bạn tự mình tô đậm các cạnh này nhé.