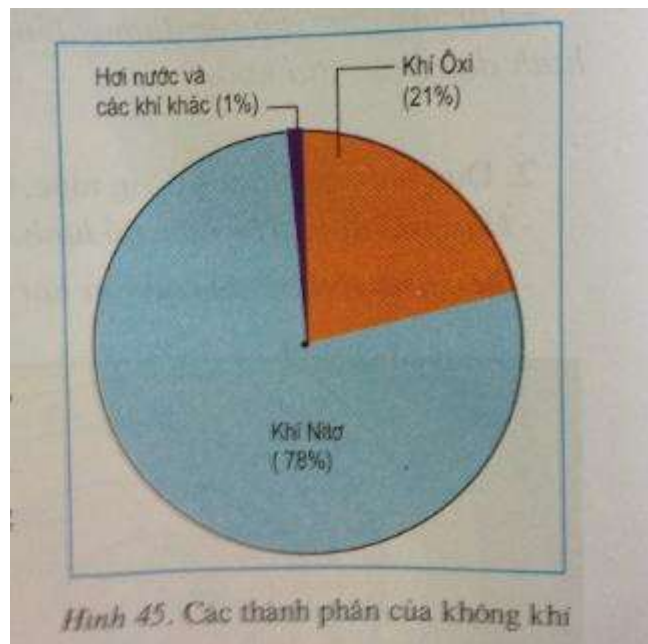


## GIẢI ĐỊA LÝ SGK LỚP 6 – CÂU HỎI BÀI 17

### Câu hỏi 1 trang 52 sgk Địa Lí 6

- Dựa vào biểu đồ hình 45, cho biết
  - + Các thành phần của không khí
  - + Mỗi thành phần chiếm tỉ lệ bao nhiêu?



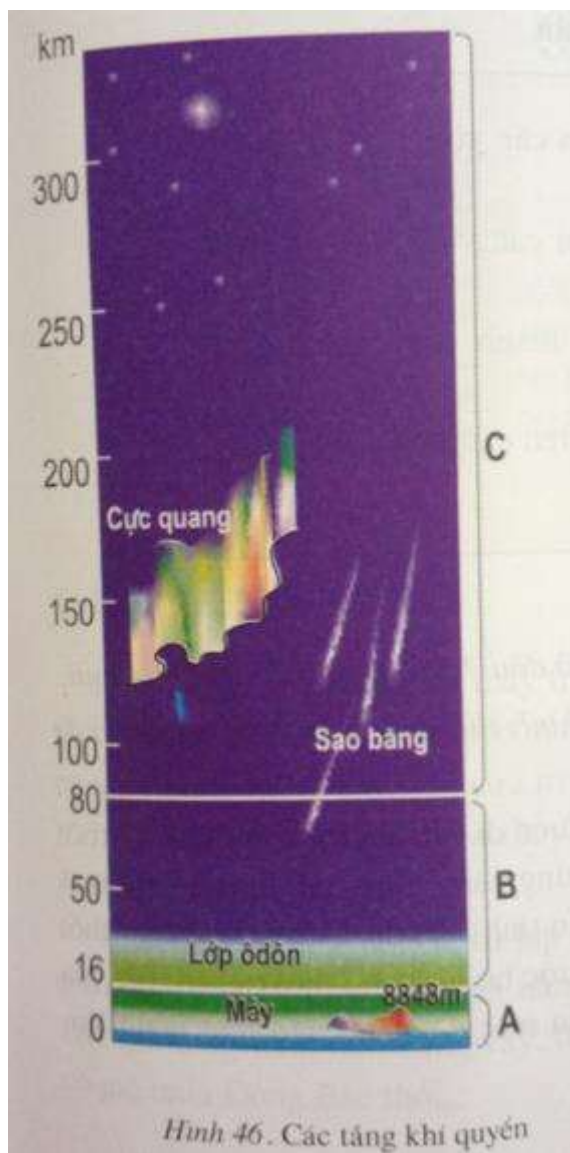
### Trả lời

- Các thành phần của không khí: khí oxi, khí nito, hơi nước và các khí khác.
- Tỉ lệ của mỗi thành phần không khí:
  - + Khí oxi: 21%
  - + Khí nito: 78%
  - + Hơi nước và các khí khác: 1%

### Câu hỏi 2 trang 52 sgk Địa Lí 6

- Quan sát hình 46, hãy cho biết:
  - + Lớp vỏ khí gồm những tầng nào?

+ Tầng gần mặt đất, có độ cao trung bình đến 16km là tầng gì?



### Trả lời

- Lớp vỏ khí gồm: tầng đối lưu, tầng bình lưu, các tầng cao của khí quyển.
- Tầng gần mặt đất, có độ cao trung bình đến 16 km là tầng đối lưu.

### Câu hỏi 1 trang 53 sgk Địa Lí 6

- Tầng không khí nằm trên tầng đối lưu là tầng gì?

### Trả lời

Tầng không khí nằm trên tầng đối lưu là tầng bình lưu.

### Câu hỏi 2 trang 53 sgk Địa Lí 6

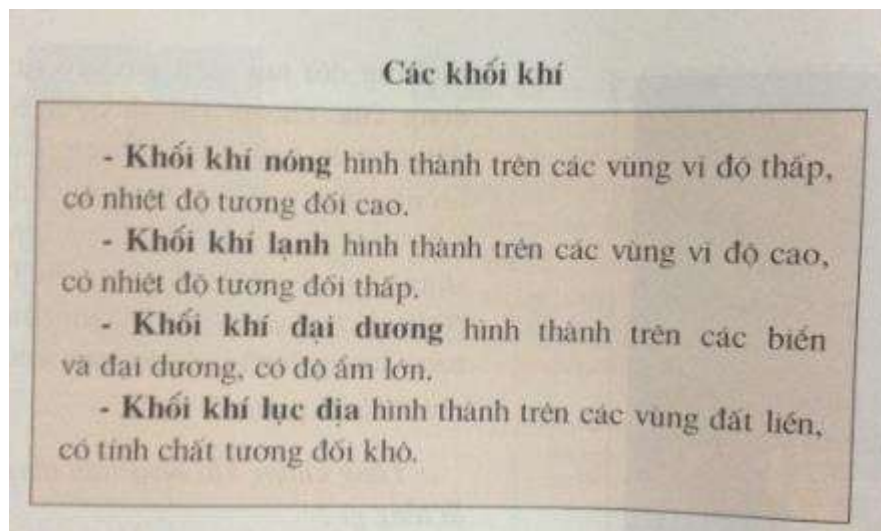
- Dựa vào kiến thức đã học, hãy cho biết vai trò của lớp vỏ khí đối với đời sống trên Trái Đất.

## Trả lời

- Cung cấp các chất khí cần thiết cho sự sống.
- Bảo vệ cho Trái Đất tránh các tia tử ngoại và hạn chế sự phá hủy do thiên thạch gây ra.
- Điều hòa nguồn nhiệt trên Trái Đất giúp sự sống tồn tại ...

## Câu hỏi trang 54 sgk Địa Lí 6

- Dựa vào bảng các khối khí, cho biết:
  - + Khối khí nóng và khối khí lạnh hình thành ở đâu? Nêu tính chất của mỗi loại
  - + Khối khí đại dương và khối khí lục địa hình thành ở đây? Nêu tính chất của mỗi loại



## Trả lời

- Khối khí nóng hình thành trên các vùng vĩ độ thấp, có nhiệt độ tương đối cao.
- Khối khí lạnh hình thành trên các vùng vĩ độ cao, có nhiệt độ tương đối thấp.
- Khối khí đại dương hình thành trên các biển và đại dương, có độ ẩm lớn.
- Khối khí lục địa hình thành trên các vùng đất liền, có tính chất tương đối khô.