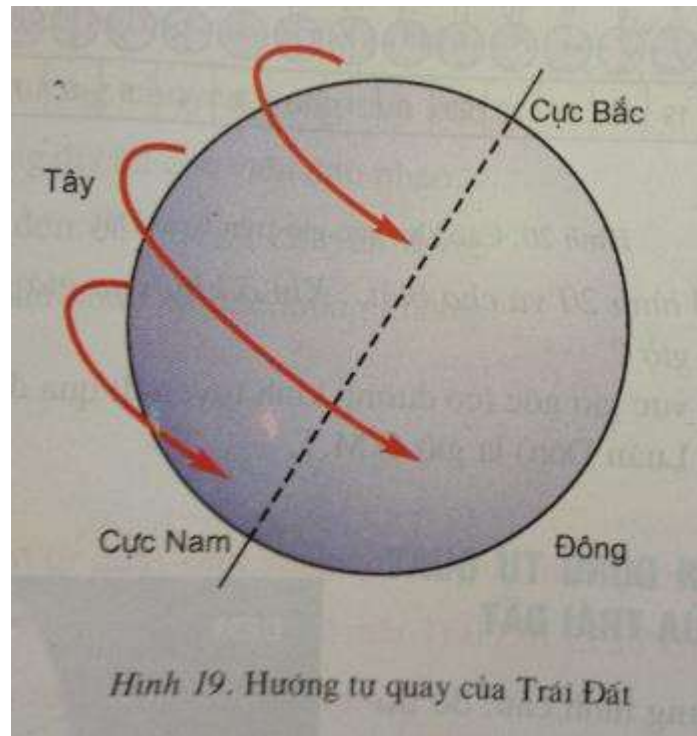


GIẢI ĐỊA LÍ SGK LỚP 6 – TRẢ LỜI CÂU HỎI BÀI 7 TRANG 21-23

Câu hỏi trang 21 sgk Địa Lí 6

- Quan sát hình 19 và cho biết: Trái Đất tự quay quanh trục theo hướng nào?



Trả lời

- Quan sát hình 19 SGK, ta thấy Trái Đất tự quay quanh trục theo hướng từ Tây sang Đông.

Câu hỏi trang 21 sgk Địa Lí 6

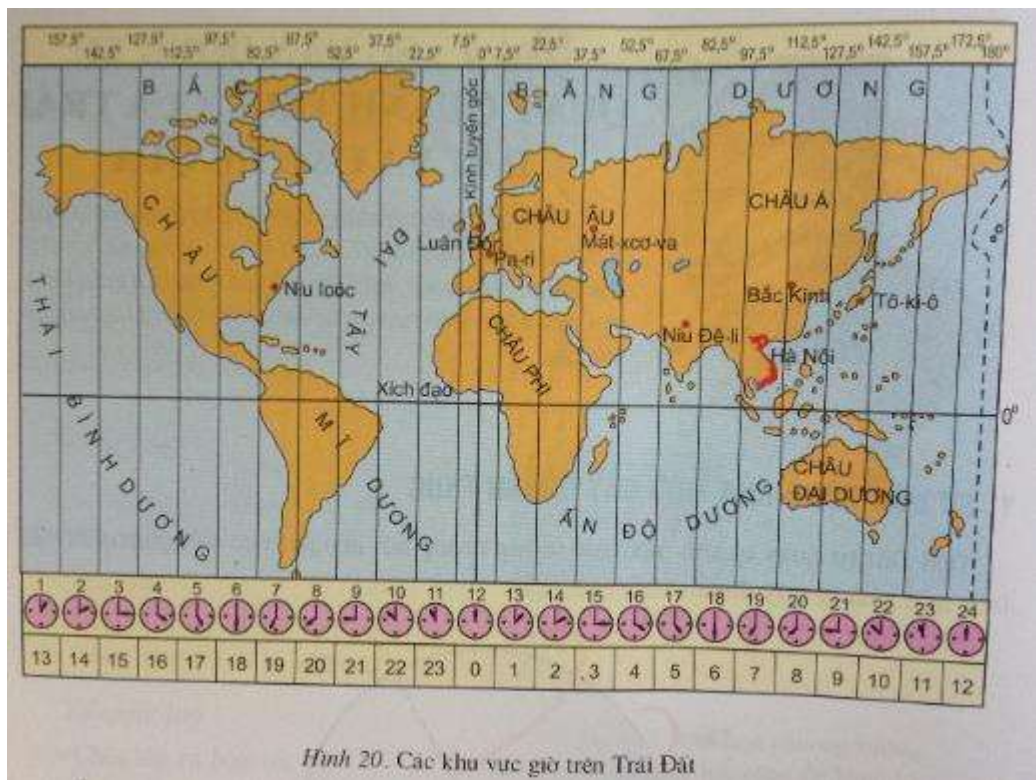
- Thời gian Trái Đất tự quay một vòng quanh trục trong một ngày đêm được quy ước là bao nhiêu giờ?

Trả lời

- Thời gian Trái Đất tự quay một vòng quanh trục trong một ngày đêm được quy ước là 24 giờ.

Câu hỏi trang 22 sgk Địa Lí 6

- Dựa trên bản đồ hình 20 và cho biết: Khi ở khu vực giờ gốc là 12 giờ thì lúc đó ở nước ta là mấy giờ?



Trả lời

- Khi ở khu vực giờ gốc là 12 giờ thì lúc đó ở Việt Nam là 19 giờ.

Câu hỏi 1 trang 23 sgk Địa Lí 6

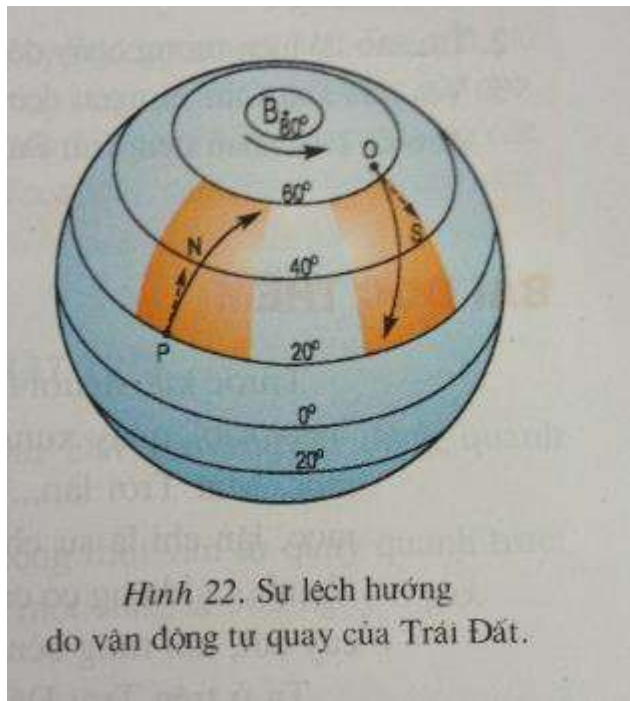
- Tại sao hằng ngày, chúng ta thấy Mặt Trời, Mặt Trăng và các ngôi sao trên bầu trời chuyển động theo hướng từ Đông sang Tây?

Trả lời

- Hằng ngày, chúng ta thấy rằng Mặt Trăng, Mặt Trời và các ngôi sao chuyển động theo hướng từ Đông sang Tây là do Trái Đất chuyển động từ Tây sang Đông.

Câu hỏi 2 trang 23 sgk Địa Lí 6

- Dựa vào hình 22, cho biết ở Bắc bán cầu, các vật chuyển động theo hướng từ P đến N và từ O đến S bị lệch về phía bên phải hay bên trái?



Hình 22. Sự lệch hướng do vận động tự quay của Trái Đất.

Trả lời

Ở Bắc bán cầu, các vật thể chuyển động theo hướng từ P đến N và từ O đến S bị lệch về phía bên phải.