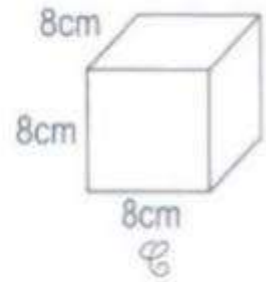
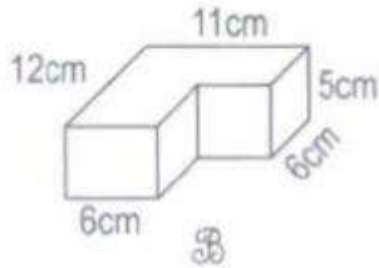
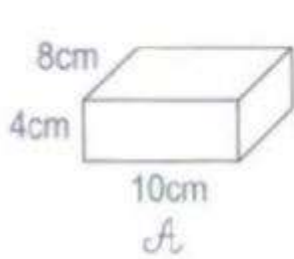


ĐÁP ÁN BÀI 3 TRANG 108 SÁCH GIÁO KHOA TOÁN 5

Bài 3: Trong các hình dưới đây hình nào là hình hộp chữ nhật, hình nào là hình lập phương?



Đáp án

Hình A là hình hộp chữ nhật

Hình C là hình lập phương

Cách khác: Hình lập phương là một hình hộp chữ nhật đặc biệt có ba kích thước bằng nhau nên ta cũng có thể coi hình C là một hình hộp chữ nhật.