

## Giải bài Luyện tập chung trang 165 SGK Toán 2

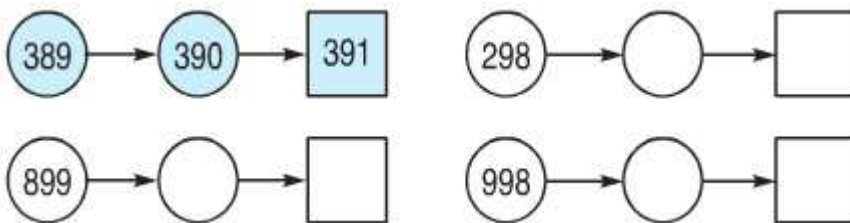
**Câu 1.** Viết số và chữ thích hợp vào ô trống (theo mẫu):

Đọc số	Viết số	Trăm	Chục	Đơn vị
Một trăm hai mươi ba	123	1	2	3
Bốn trăm mười sáu				
		5	0	2
	299			
		9	4	0

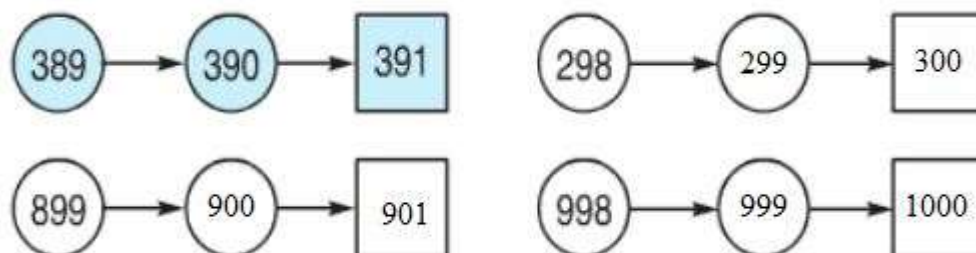
**Đáp án**

Đọc số	Viết số	Trăm	Chục	Đơn vị
Một trăm hai mươi ba	123	1	2	3
Bốn trăm mười sáu	416	4	1	6
Năm trăm linh hai	502	5	0	2
Hai trăm chín mươi chín	299	2	9	9
Chín trăm bốn mươi	940	9	4	0

**Câu 2.** Số ?



**Đáp án**



**Câu 3.** Điền dấu >, <, = vào chỗ chấm:

875...785

321 ....298

697...699

900 + 90 + 8...1000

599...701

732...700 + 30 + 2

### Đáp án

$$875 < 785$$

$$321 > 298$$

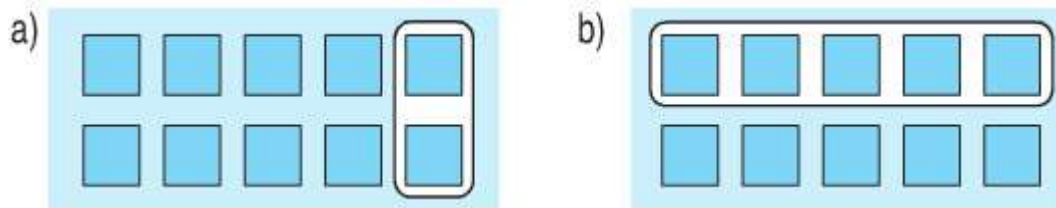
$$697 < 699$$

$$900 + 90 + 8 < 1000$$

$$599 < 701$$

$$732 = 700 + 30 + 2$$

**Câu 4.** Hình nào đã khoanh vào  $\frac{1}{5}$  số hình vuông ?



### Đáp án

Hình a) được khoanh vào  $\frac{1}{5}$  số hình vuông.

**Câu 5.** Giá tiền một chiếc bút chì là 700 đồng, giá tiền một chiếc bút bi nhiều hơn giá tiền một chiếc bút chì 300 đồng. Hỏi giá tiền một chiếc bút bi là bao nhiêu đồng ?

### Lời giải

Giá tiền một chiếc bút bi là:

$$700 + 300 = 1000 \text{ (đồng)}$$

Đáp số: 1000 đồng.