





Giải bài 1 trang 29 SGK Toán 4 tiết Biểu đồ

Bài 1 (trang 29 SGK Toán 4): Biểu đồ dưới đây nói về các môn thể thao khối lớp Bốn tham gia:

4A				
4B				
4C				

Nhìn vào biểu đồ hãy trả lời câu hỏi sau:

- Những lớp nào được nêu tên trong biểu đồ?
- Khối lớp Bốn tham gia mấy môn thể thao, gồm những môn nào?
- Môn bơi có mấy lớp tham gia, là những lớp nào?
- Môn nào ít lớp tham gia nhất?
- Hai lớp 4B và 4C tham gia tất cả là mấy môn? Hai lớp đó cùng tham gia những môn thể thao nào?

Lời giải:

- Các lớp được nêu tên trong biểu đồ là: Lớp 4A, lớp 4B, lớp 4C
- Khối lớp Bốn tham gia 4 môn thể thao là: Bơi lội, nhảy dây, cờ vua và đá cầu.
- Môn bơi có hai lớp tham gia là lớp 4A và lớp 4C
- Môn cờ vua có ít lớp tham gia nhất, chỉ có lớp 4A tham gia
- Hai lớp 4B và 4C tham gia tất cả 3 môn, trong đó họ cùng tham gia môn đá cầu.