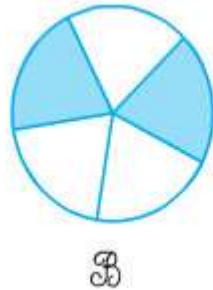
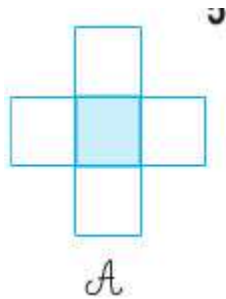


## Hướng dẫn giải bài Một phần năm trang 122 SGK Toán 2

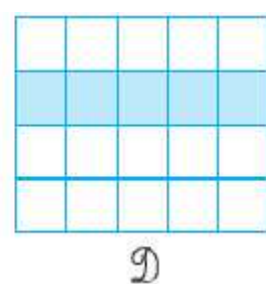
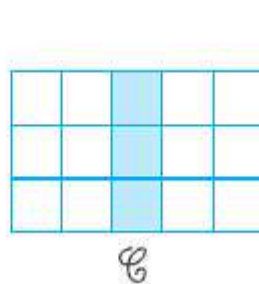
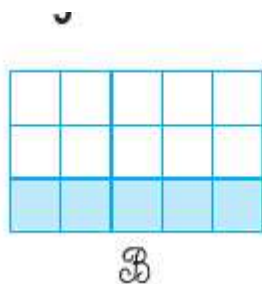
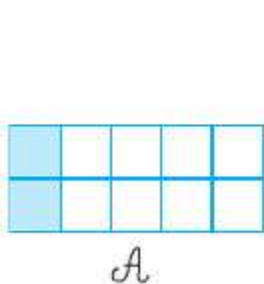
Câu 1. Đã tô màu  $\frac{1}{5}$  hình nào?



Đáp án

Đã tô màu  $\frac{1}{5}$  của hình A, hình D.

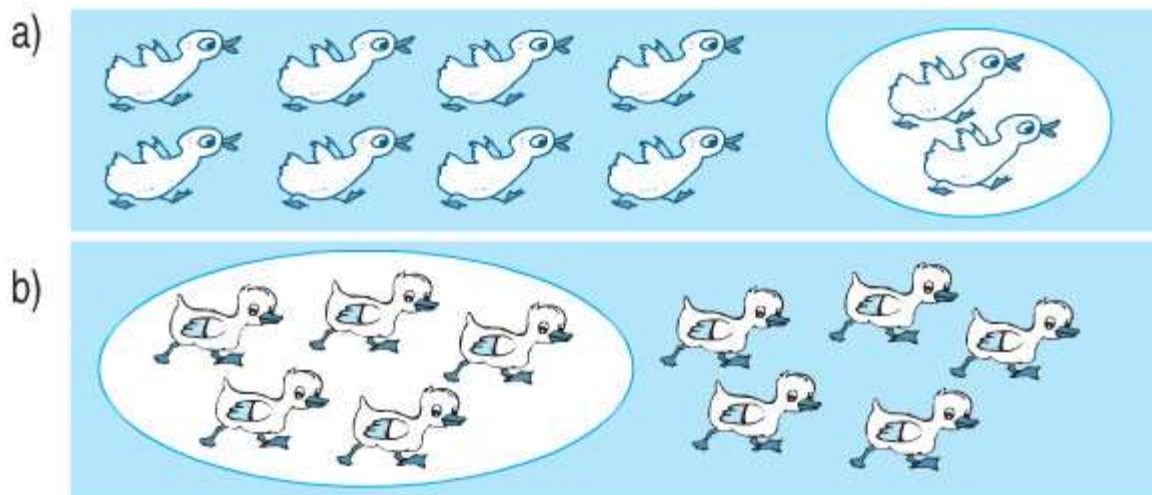
Câu 2. Hình nào đã tô màu  $\frac{1}{5}$  hình vuông ?



Đáp án

Hình A, hình C đã tô màu  $\frac{1}{5}$  số hình vuông.

Câu 3. Hình nào đã khoanh  $\frac{1}{5}$  số con vịt ?



**Đáp án**

Hình a đã khoanh  $\frac{1}{5}$  số con vịt.