

Hướng dẫn giải bài Luyện tập chung trang 124 SGK toán 2

Câu 1. Tính (theo mẫu):

Mẫu: $3 \times 4 : 2 = 12 : 2 = 6$

a) $5 \times 6 : 3 =$

b) $6 : 3 \times 5 =$

c) $2 \times 2 \times 2 =$

Đáp án

a) $5 \times 6 : 3 = 30 : 3 = 10$

b) $6 : 3 \times 5 = 2 \times 5 = 10$

c) $2 \times 2 \times 2 = 4 \times 2 = 8$

Câu 2. Tìm x

a) $x + 2 = 6$

$x \times 2 = 6$

b) $3 + x = 15$

$3 \times x = 15$

Đáp án

a) $x + 2 = 6$

$x = 6 - 2$

$x = 4$

$x \times 2 = 6$

$x = 6 : 2$

$x = 3$

b) $3 + x = 15$

$$x = 15 - 3$$

$$x = 12$$

$$3 \times x = 15$$

$$x = 15 : 3$$

$$x = 5$$


Câu 3. Hình nào đã được tô màu :

$\frac{1}{2}$ số ô vuông ?

$\frac{1}{3}$ số ô vuông ?

$\frac{1}{4}$ số ô vuông ?


$\frac{1}{5}$ số ô vuông ?



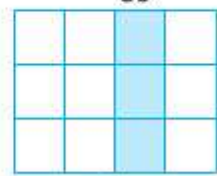
A



B



C



D

Đáp án

Hình C đã được tô màu $\frac{1}{2}$ số ô vuông.

Hình A đã được tô màu $\frac{1}{3}$ số ô vuông .

Hình D đã được tô màu $\frac{1}{4}$ số ô vuông.

Hình B đã được tô màu $\frac{1}{5}$ số ô vuông .

Câu 4. Mỗi chuồng có 5 con thỏ. Hỏi 4 chuồng như thế có tất cả bao nhiêu con thỏ?

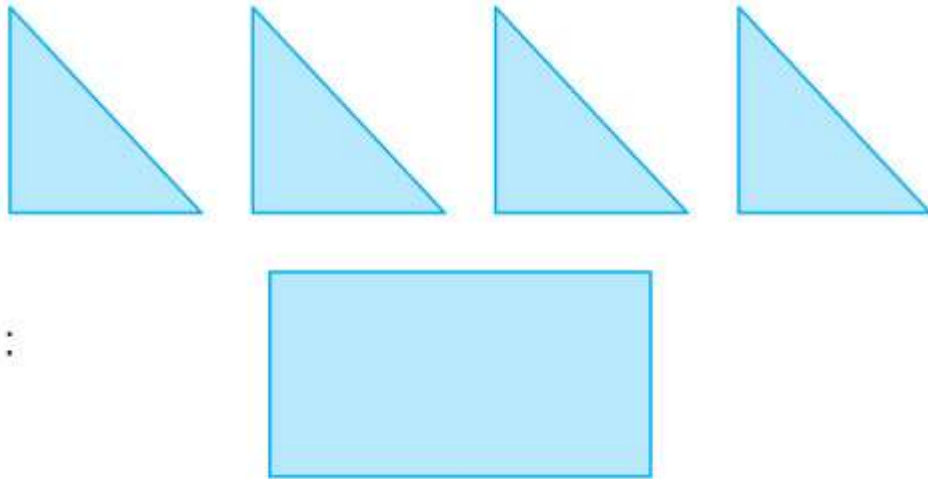
Lời giải

Số con thỏ có tất cả là:

$$5 \times 4 = 20 \text{ (con thỏ)}$$

Đáp số: 20 con thỏ.

Câu 5. Xếp 4 hình tam giác thành hình chữ nhật:



Đáp án

Ta có cách xếp như sau:

