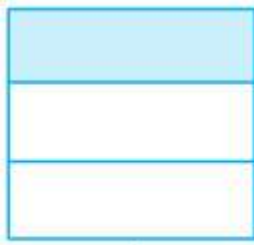
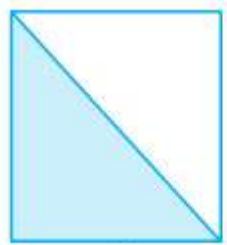


## Hướng dẫn giải bài Một phần ba trang 114 SGK Toán 2

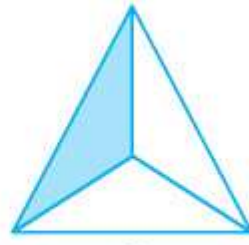
**Bài 1.** Đã tô màu  $\frac{1}{3}$  hình nào?



A



B



C



D


**Đáp án**

Đã tô màu vào  $\frac{1}{3}$  hình A (hình vuông).

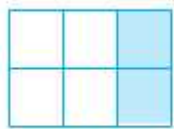
Đã tô màu vào  $\frac{1}{3}$  hình C (hình tam giác).

Đã tô màu vào  $\frac{1}{3}$  hình D (hình tròn).

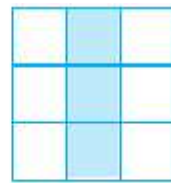
**Bài 2.** Hình nào có  $\frac{1}{3}$  số ô vuông được tô màu?



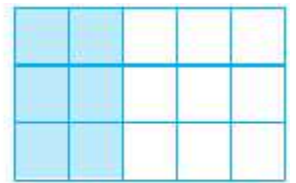
A



B



C



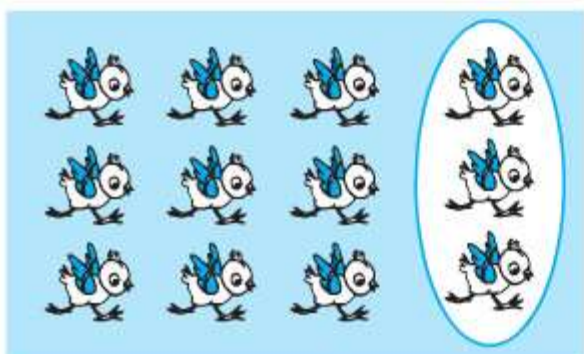
D

**Đáp án**


Hình A, hình B, hình C.

**Bài 3.** Hình nào đã khoanh vào  $\frac{1}{3}$  số con gà?

a)



b)



**Đáp án**

Hình b.