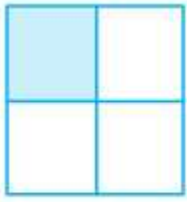


## Giải bài tập Một phần tư trang 119 SGK Toán 2

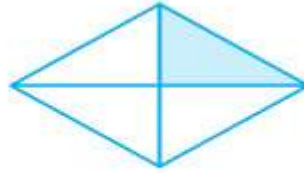
Câu 1. Đã tô màu  $\frac{1}{4}$  hình nào?



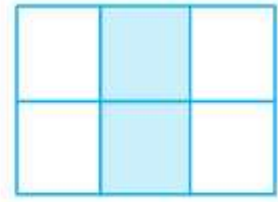
A



B



C




D

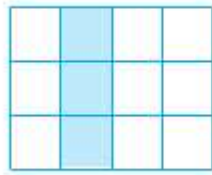
Đáp án

Đã tô màu  $\frac{1}{4}$  hình A, hình B, hình C.


Câu 2. Hình nào có  $\frac{1}{4}$  số ô vuông đã được tô màu?




A



B



C



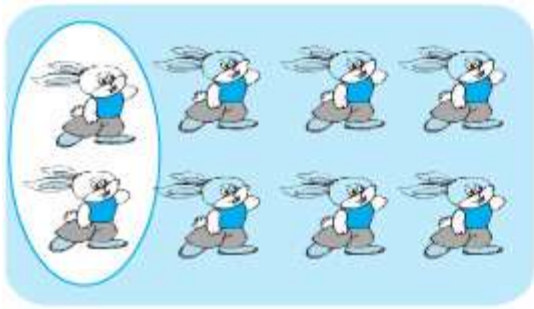
D

Đáp án

Hình A, hình B, hình D có  $\frac{1}{4}$  số ô vuông đã được tô màu.

Câu 3. Hình nào khoanh vào  $\frac{1}{4}$  số con thỏ:

a)



b)



**Đáp án**

Hình A đã khoanh tròn vào  $\frac{1}{4}$  số con thỏ.