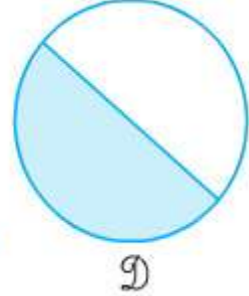
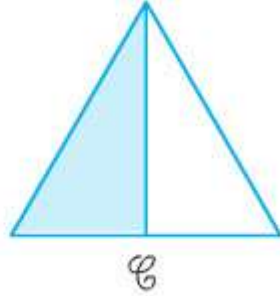
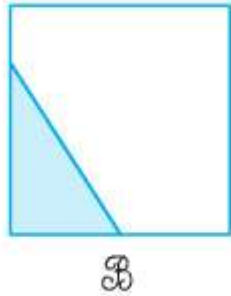
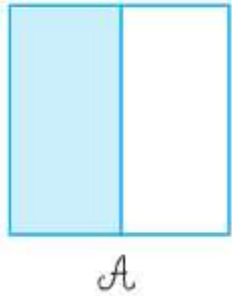


Hướng dẫn giải bài Một phần hai trang 110 SGK Toán 2

Bài 1. Đã tô màu $\frac{1}{2}$ hình nào ?




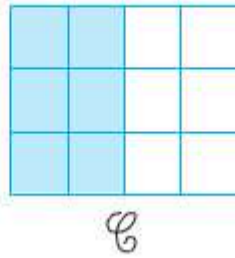
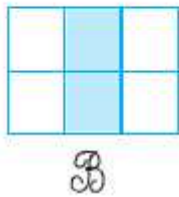

Đáp án

Đã tô màu $\frac{1}{2}$ hình A.

Đã tô màu $\frac{1}{2}$ hình C.

Đã tô màu $\frac{1}{2}$ hình D.

Bài 2. Hình nào có $\frac{1}{2}$ số ô vuông được tô màu ?




Đáp án


Hình A, hình C.

Bài 3. Hình nào đã khoanh vào $\frac{1}{2}$ số con cá ?

a)



b)



Đáp án

Hình b.