

Giải bài Luyện tập chung trang 105 SGK Toán 2

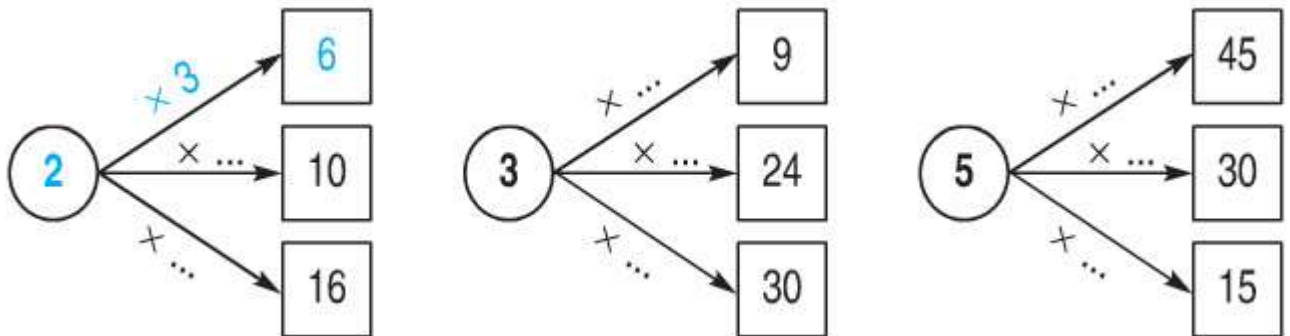
Bài 1. Tính nhẩm:

$2 \times 6 =$	$2 \times 8 =$	$5 \times 9 =$	$3 \times 5 =$
$3 \times 6 =$	$3 \times 8 =$	$2 \times 9 =$	$4 \times 5 =$
$4 \times 6 =$	$4 \times 8 =$	$4 \times 9 =$	$2 \times 5 =$
$5 \times 6 =$	$5 \times 8 =$	$3 \times 9 =$	$5 \times 5 =$

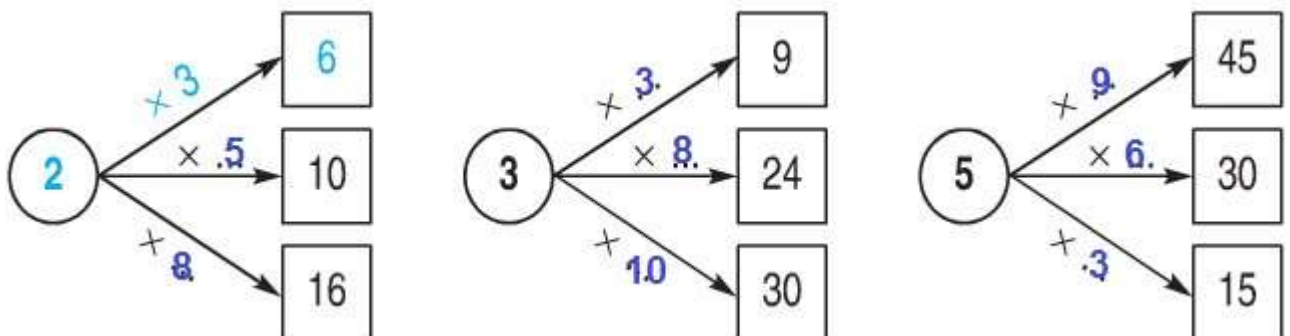
Đáp án

$2 \times 6 = 12$	$2 \times 8 = 16$	$5 \times 9 = 45$	$3 \times 5 = 15$
$3 \times 6 = 18$	$3 \times 8 = 24$	$2 \times 9 = 18$	$4 \times 5 = 20$
$4 \times 6 = 24$	$4 \times 8 = 32$	$4 \times 9 = 36$	$2 \times 5 = 10$
$5 \times 6 = 30$	$5 \times 8 = 40$	$3 \times 9 = 27$	$5 \times 5 = 25$

Bài 2. Viết số thích hợp vào chỗ chấm (theo mẫu)



Đáp án



Bài 3. Tính:

a) $5 \times 5 + 6 =$

b) $4 \times 8 - 17 =$

c) $2 \times 9 - 18 =$

d) $3 \times 7 + 29 =$

Đáp án

a) $5 \times 5 + 6 = 25 + 6 = 31$

b) $4 \times 8 - 17 = 32 - 17 = 15$

c) $2 \times 9 - 18 = 18 - 18 = 0$

d) $3 \times 7 + 29 = 21 + 29 = 50$

Bài 4. Mỗi đôi đũa có 2 chiếc đũa. Hỏi 7 đôi đũa có bao nhiêu chiếc đũa?

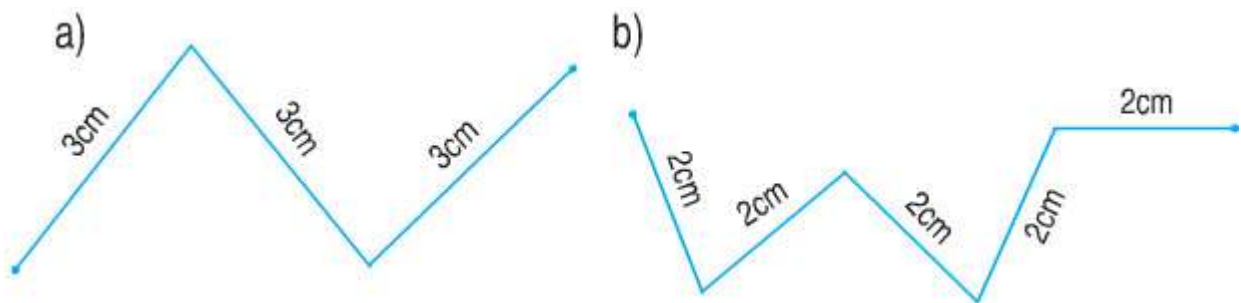
Lời giải

7 đôi đũa có số chiếc đũa là:

$2 \times 7 = 14$ (chiếc đũa)

Đáp số: 14 chiếc đũa.

Bài 5. Tính độ dài mỗi đường gấp khúc sau:



Đáp án

a) Độ dài đường gấp khúc là:

$3 + 3 + 3 = 9$

Đáp số: 9cm.

b) Độ dài đường gấp khúc là:

$2 + 2 + 2 + 2 + 2 = 10$ (cm)

Đáp số: 10cm.