

# GIẢI BÀI TẬP 39 TRANG 71

## SGK TOÁN 7 TẬP 1 – PHẦN ĐẠI SỐ

### Câu hỏi

Vẽ trên một hệ trục tọa độ Oxy đồ thị của các hàm số:

a)  $y = x$

b)  $y = 3x$

c)  $y = -2x$

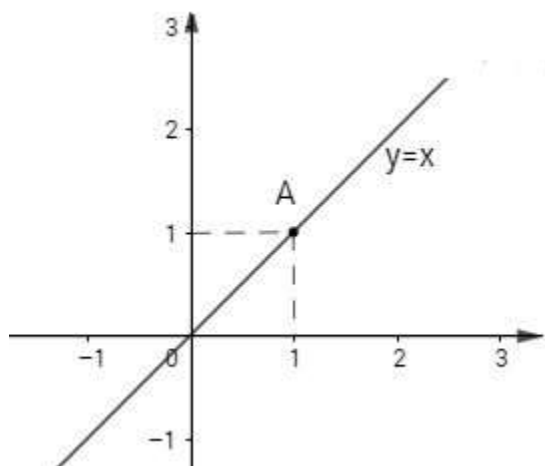
d)  $y = -x$

### Đáp Án

Nhận xét: Với cả 4 hàm số trên, khi cho  $x = 0$  được  $y = 0 \Rightarrow 0(0; 0)$  đều thuộc đồ thị của bốn hàm số trên.

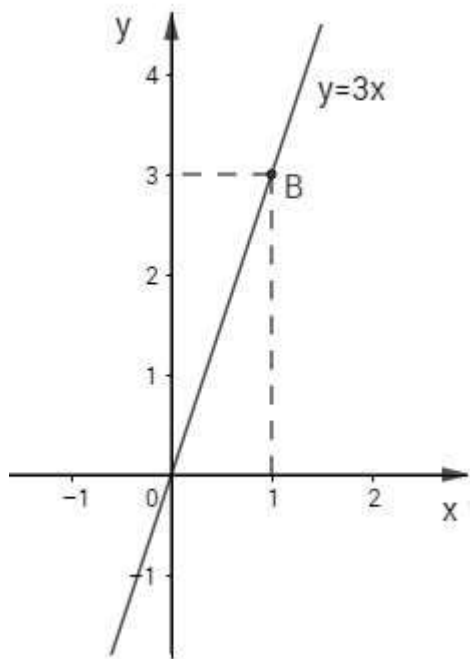
a)  $y = x$ .

Cho  $x = 2$  được  $y = 2 \Rightarrow A(2; 2)$  thuộc đồ thị.



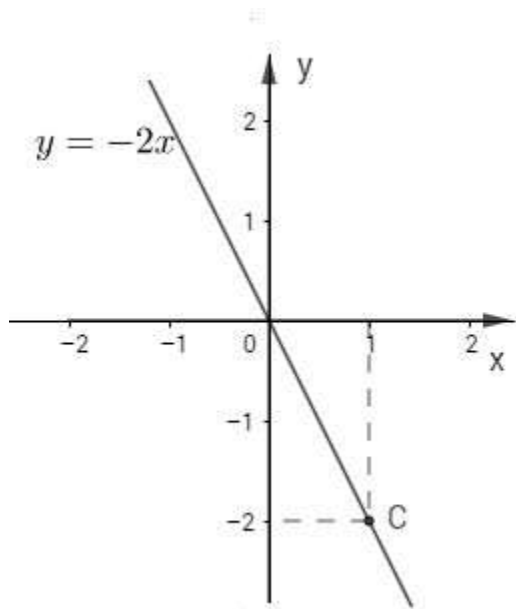
b)  $y = 3x$ .

Cho  $x = 1$  được  $y = 3 \Rightarrow B(1; 3)$  thuộc đồ thị.



c)  $y = -2x$

Cho  $x = -1$  được  $y = 2 \Rightarrow C(-1; 2)$  thuộc đồ thị.



[Toán lớp 7](#)

[Giải toán lớp 7 tập 1](#)

d)  $y = -x$ .

Cho  $x = 1$  được  $y = -1 \Rightarrow D(1; -1)$  thuộc đồ thị.

