

Giải toán lớp 6 tập 1 – bài 31 trang 114 sách giáo khoa

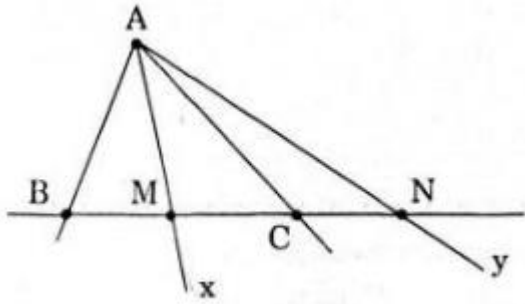
Đề bài:

Lấy ba điểm không thẳng hàng A, B, C. Vẽ hai tia AB và AC.

- Vẽ tia Ax cắt đường thẳng BC tại điểm M nằm giữa B và C.
- Vẽ tia Ay cắt đường thẳng BC tại điểm N không nằm giữa B và C.

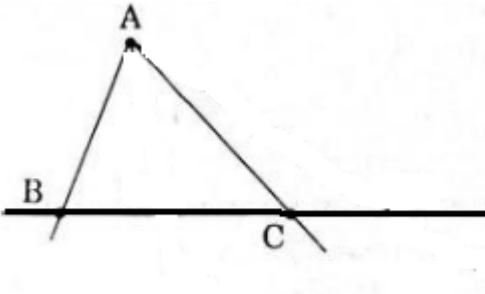
Đáp án:

Hình tổng hợp cho cả hai phần a và b:

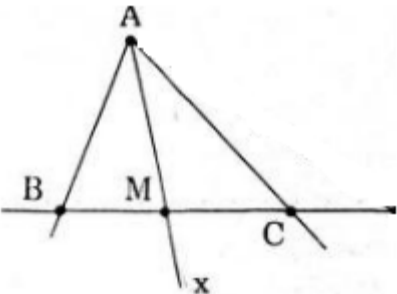


Vẽ hình theo từng phần như sau:

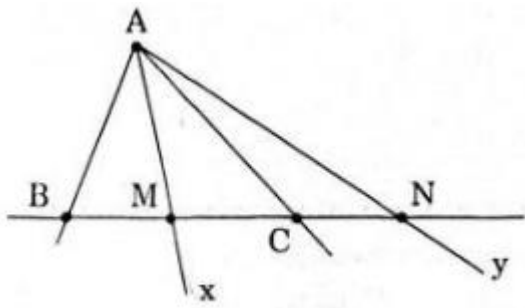
- Lấy ba điểm không thẳng hàng A, B, C. Vẽ hai tia AB và AC.



- Vẽ tia Ax cắt đường thẳng BC tại điểm M nằm giữa B và C



- Vẽ tia Ay cắt đường thẳng BC tại điểm N không nằm giữa B và C



Luyện tập trang 113

Toán lớp 6 – Giải toán 6 tập 1 phần hình học - Chương 1: Đoạn thẳng