









Hướng dẫn thực hành xem đồng hồ trang 78 SGK Toán 2

Câu 1. Đồng hồ nào chỉ thời gian thích hợp với giờ ghi trong tranh?

A		 <p>An đi học lúc 7 giờ sáng.</p>	 <p>An thức dậy lúc 6 giờ sáng.</p>
B			
C		 <p>Buổi tối An xem phim lúc 20 giờ.</p>	 <p>17 giờ An đá bóng.</p>
D			

Đáp án

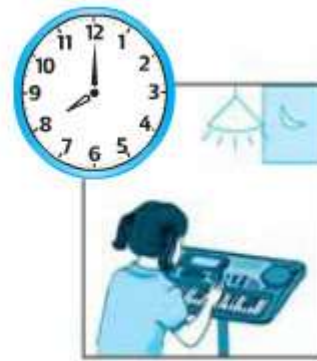
Tranh 1: An đi học lúc 7 giờ sáng ứng với đồng hồ B.

Tranh 2: An thức dậy lúc 6 giờ sáng ứng với đồng hồ A.

Tranh 3: Buổi tối An xem phim lúc 20 giờ ứng với đồng hồ D.

Tranh 4: 17 giờ An đá bóng ứng với đồng hồ C.

Câu 2. Câu nào đúng? Câu nào sai?



- a) Đi học đúng giờ. c) Cửa hàng đã mở cửa. e) Lan tập đàn lúc 20 giờ.
 b) Đi học muộn giờ. d) Cửa hàng đóng cửa. g) Lan tập đàn lúc 8 giờ sáng.

Đáp án

Tranh 1: Câu b đúng, câu a sai.

Tranh 2: Câu d đúng, câu c sai.

Tranh 3: Câu e đúng, câu g sai.

Câu 3. Quay kim trên mặt đồng hồ để chỉ giờ:

8 giờ; 11 giờ; 14 giờ; 18 giờ; 23 giờ.

Đáp án

- Đồng hồ chỉ 8 giờ: Kim ngắn chỉ số 8, kim dài chỉ số 12.
- Đồng hồ chỉ 11 giờ: Kim ngắn chỉ số 11, kim dài chỉ số 12
- Đồng hồ chỉ 14 giờ: Kim ngắn chỉ số 2, kim dài chỉ số 12
- Đồng hồ chỉ 18 giờ: Kim ngắn chỉ số 6, kim dài chỉ số 12
- Đồng hồ chỉ 23 giờ: Kim ngắn chỉ số 11, kim dài chỉ số 12