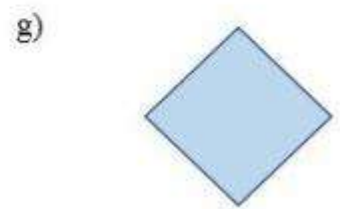


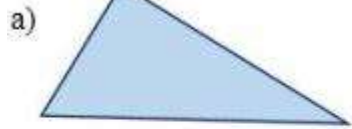


Hướng dẫn giải bài Ôn tập về hình học trang 85 SGK Toán 2

Câu 1. Mỗi hình dưới đây là hình gì?



Đáp án

- a) Hình tam giác b) Hình tứ giác c) Hình tứ giác.
d) Hình vuông e) Hình chữ nhật g) Hình vuông.

Câu 2.

- a) Vẽ đoạn thẳng có độ dài 8cm.
b) Vẽ đoạn thẳng có độ dài 1dm.

Đáp án

- a) Dùng thước có vạch chia xăngtimét, chấm điểm ở vạch 0 và điểm ở vạch 8, sau đó nối hai điểm đó lại.



- b) Dùng thước có vạch chia xăngtimét, chấm điểm ở vạch 0 và điểm ở vạch 10, sau đó nối hai điểm đó lại.



Câu 3. Nêu tên ba điểm thẳng hàng (dùng thước thẳng để kiểm tra)



Đáp án

Ba điểm A, B, E thẳng hàng.

Ba điểm D, E, C thẳng hàng

Ba điểm D, B, I thẳng hàng.