

## Giải bài Ôn tập về phép cộng và phép trừ trang 82 SGK Toán 2

### Câu 1. Tính nhẩm:

$9 + 7 =$        $8 + 4 =$        $6 + 5 =$        $2 + 9 =$

$7 + 9 =$        $4 + 8 =$        $5 + 6 =$        $9 + 2 =$

$16 - 9 =$        $12 - 8 =$        $11 - 6 =$        $11 - 2 =$

$16 - 7 =$        $12 - 4 =$        $11 - 5 =$        $11 - 9 =$

### Đáp án

$9 + 7 = 16$        $8 + 4 = 12$        $6 + 5 = 11$

$7 + 9 = 16$        $4 + 8 = 12$        $5 + 6 = 11$

$16 - 9 = 7$        $12 - 8 = 4$        $11 - 6 = 5$

$16 - 7 = 9$        $12 - 4 = 8$        $11 - 5 = 6$

$2 + 9 = 11$

$9 + 2 = 11$

$11 - 2 = 9$

$11 - 9 = 2$

### Câu 2. Đặt tính rồi tính:

a)  $38 + 42;$        $47 + 35;$        $36 + 64$

b)  $81 - 27;$        $63 - 18;$        $100 - 42.$

### Đáp án

$$a) \begin{array}{r} 38 \\ + 42 \\ \hline 80 \end{array}$$

$$\begin{array}{r} 47 \\ + 35 \\ \hline 82 \end{array}$$

$$\begin{array}{r} 36 \\ + 64 \\ \hline 100 \end{array}$$

$$b) \begin{array}{r} 81 \\ - 27 \\ \hline 54 \end{array}$$

$$\begin{array}{r} 63 \\ - 18 \\ \hline 45 \end{array}$$

$$\begin{array}{r} 100 \\ - 42 \\ \hline 58 \end{array}$$

**Câu 3. Số?**



$$9 + 8 =$$

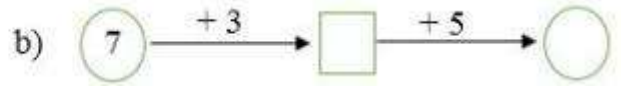
$$7 + 8 =$$

c)  $9 + 6 =$

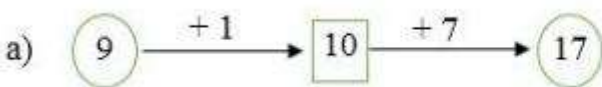
d)  $6 + 5 =$

$$9 + 1 + 5 =$$

$$6 + 4 + 1 =$$



**Đáp án**



$$9 + 8 = 17$$

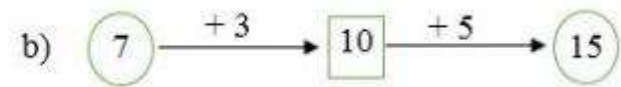
$$7 + 8 = 15$$

c)  $9 + 6 = 15$

d)  $6 + 5 = 11$

$$9 + 1 + 5 = 15$$

$$6 + 4 + 1 = 11$$



**Câu 4.** Lớp 2A trồng được 48 cây, lớp 2B trồng được nhiều hơn lớp 2A 12 cây. Hỏi lớp 2B trồng được bao nhiêu cây?

**Lời giải**

Số cây lớp 2B trồng được là

$$48 + 12 = 60 \text{ (cây)}$$

Đáp số: 60 cây.

**Câu 5. Số?**

a)  $72 + \dots = 72;$

b)  $85 - \dots = 85.$

## **Đáp án**

a)  $72 + 0 = 72;$

b)  $85 - 0 = 85.$