

GIẢI BÀI TẬP 27 TRANG 119

SGK TOÁN 7 TẬP 1 – PHẦN HÌNH HỌC

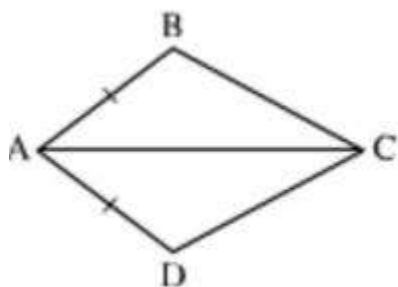
Câu hỏi

Nếu thêm một điều kiện để hai tam giác trong mỗi hình vẽ dưới đây là hai tam giác bằng nhau theo trường hợp cạnh góc cạnh

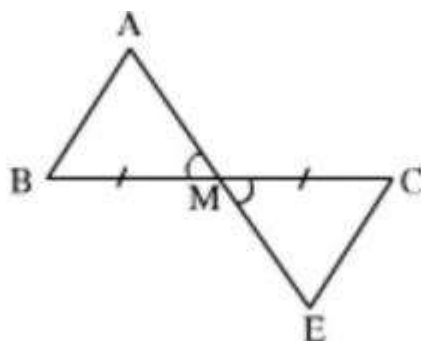
a) $\triangle ABC = \triangle ADC$

b) $\triangle AMB = \triangle EMC$

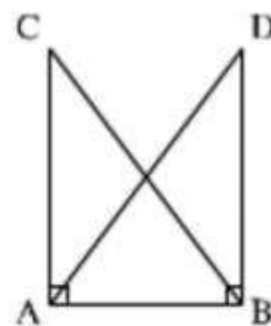
c) $\triangle CAB = \triangle DBA$



Hình 86



Hình 87



Hình 88

Đáp Án

a) Bổ sung thêm góc $BAC =$ góc DAC .

b) Bổ sung thêm $MA = ME$.

c) Bổ sung thêm $AC = BD$.