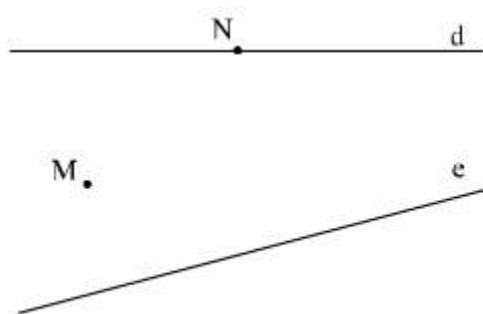


# GIẢI BÀI TẬP 55 TRANG 103

## SGK TOÁN 7 TẬP 1 – PHẦN HÌNH HỌC

### Câu hỏi

Vẽ lại hình 38 rồi vẽ thêm:

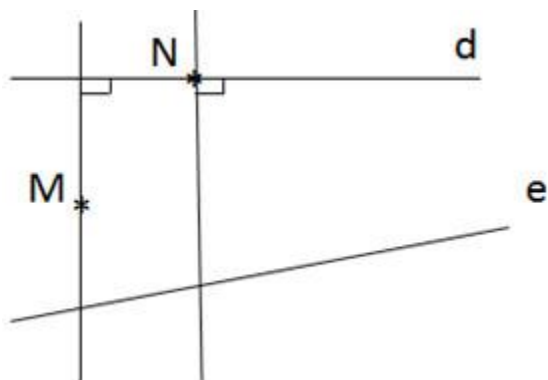


Hình 38

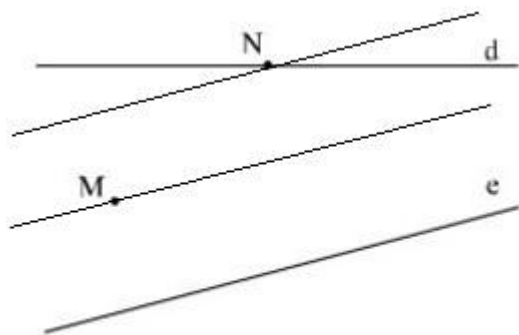
- Các đường thẳng vuông góc với  $d$  đi qua  $M$ , đi qua  $N$ .
- Các đường thẳng song song với  $e$  đi qua  $M$ , đi qua  $N$ .

### Đáp Án

- Các đường thẳng vuông góc với  $d$  đi qua  $M$ , đi qua  $N$ .



- Các đường thẳng song song với  $e$  đi qua  $M$ , đi qua  $N$ .



Hình 38