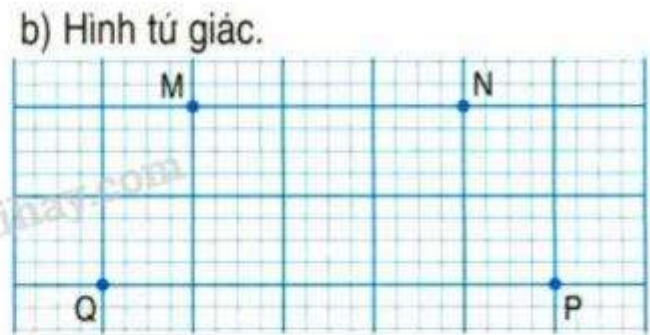
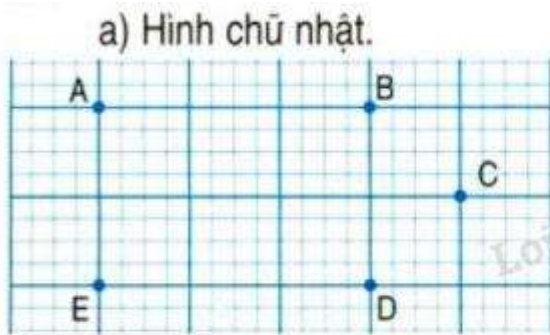


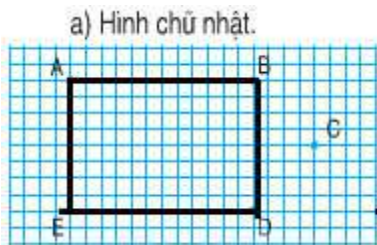
Hướng dẫn giải bài Hình chữ nhật - Hình tứ giác trang 23 SGK Toán 2

Câu 1. Dùng bút và thước nối các điểm để có:



Đọc tên các hình trên.

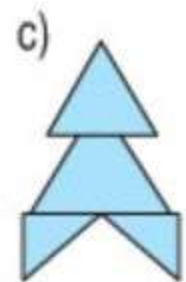
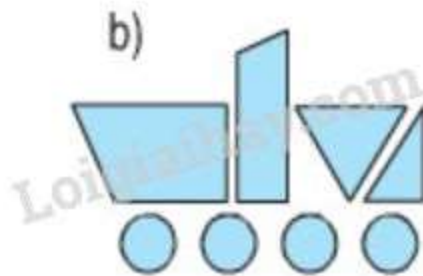
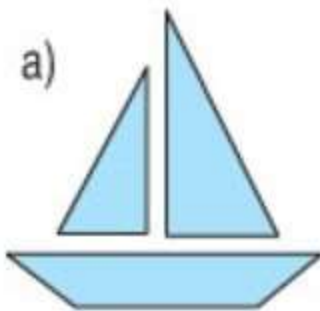
Đáp án



a) Nối bốn điểm A, B, C, D để được hình chữ nhật ABCD

b) Nối bốn điểm M, N, P, Q ta được hình tứ giác MNPQ.

Câu 2. Trong các hình dưới đây có mấy hình tứ giác?



Đáp án

Hình a) có một hình tứ giác.

Hình b) có hai hình tứ giác.

Hướng dẫn giải bài Hình chữ nhật - Hình tứ giác trang 23 SGK Toán 2

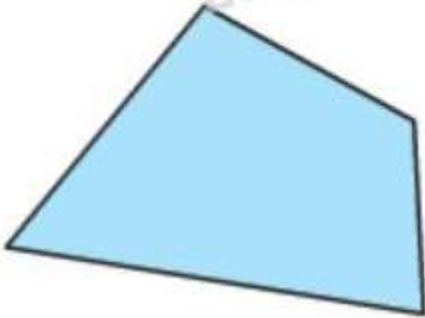
Hình c) có một hình tứ giác.

Câu 3. Kẻ thêm một đoạn thẳng trong hình sau để được:

a) Một hình chữ nhật và một hình tam giác



b) Ba hình tứ giác



Đáp án

a)

Loigiaihay



b)

Loigiaihay.com

