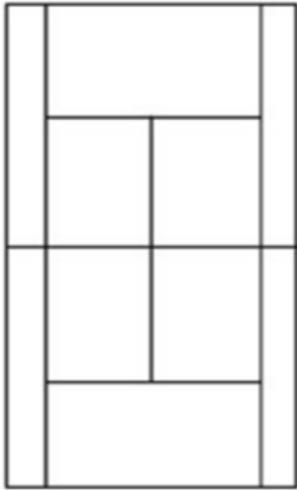


Đề bài

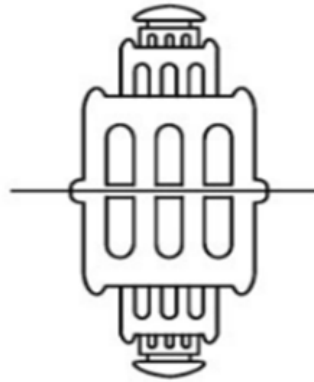
Tìm trục đối xứng và tâm đối xứng của:

a) Hình 110 (sơ đồ một sân quần vợt)

b) Hình 111 (Tháp Rùa là bóng của nó trên mặt nước)

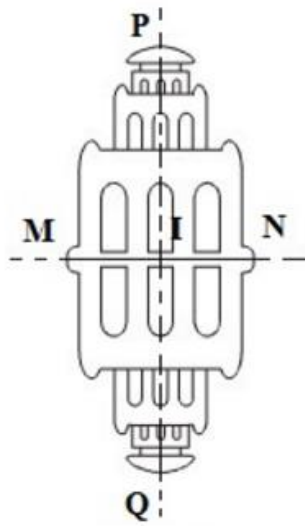
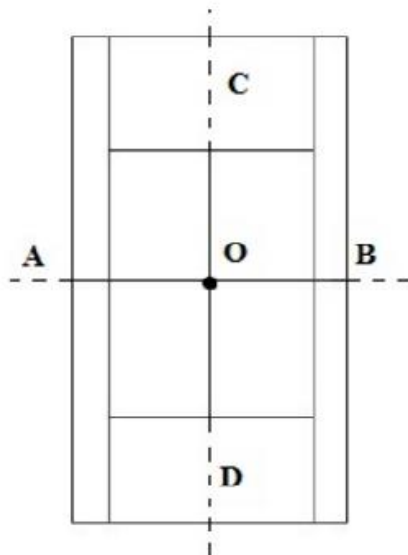


Hình 110



Hình 111

Lời giải đáp án



a) Hình 110

- Hai trục đối xứng AB và CD.

- Một tâm đối xứng là O.

b) Hình 111

- Hai trục đối xứng là MN và PQ

- Một tâm đối xứng là I.