







**Đề bài**

Điền số thích hợp vào các ô trống trong bảng

				Đa giác n cạnh
Số cạnh	4			
Số đường chéo xuất phát từ một đỉnh		2		
Số tam giác được tạo thành			4	
Tổng số đo các góc của đa giác			$4 \cdot 180^\circ = 720^\circ$	

**Lời giải đáp án**

				Đa giác n cạnh
Số cạnh	4	5	6	<b>n</b>
Số đường chéo xuất phát từ một đỉnh	1	2	3	<b>n - 3</b>
Số tam giác được tạo thành	2	3	4	<b>n - 2</b>
Tổng số đo các góc của đa giác	$2 \cdot 180^\circ = 360^\circ$	$3 \cdot 180^\circ = 540^\circ$	$4 \cdot 180^\circ = 720^\circ$	<b><math>(n - 2) \cdot 180^\circ</math></b>