
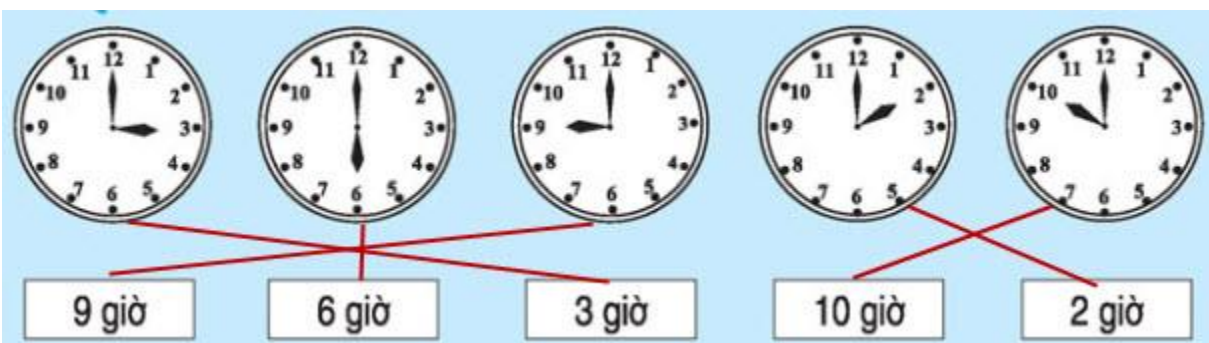


BÀI 1

Đề Bài: Nối đồng hồ với số chỉ đúng giờ



Đáp án:



Giải bài tập toán lớp 1: Đáp án trang 167 sách giáo khoa

BÀI 3

Đề Bài: Tính

Em ngủ dậy lúc 6 giờ sáng


Em đi học lúc 7 giờ

Em học xong buổi sáng lúc 11 giờ

Em học buổi chiều lúc 2 giờ

Em tưới hoa buổi chiều lúc 5 giờ

Em đi ngủ lúc 9 giờ tối



The image shows six analog clocks arranged in two columns and three rows. The top row shows 6:00 (hour hand on 6, minute hand on 12) and 7:00 (hour hand on 7, minute hand on 12). The middle row shows 11:00 (hour hand on 11, minute hand on 12) and 2:00 (hour hand on 2, minute hand on 12). The bottom row shows 5:00 (hour hand on 5, minute hand on 12) and 9:00 (hour hand on 9, minute hand on 12).

Đáp án:

Em ngủ dậy lúc 6 giờ sáng

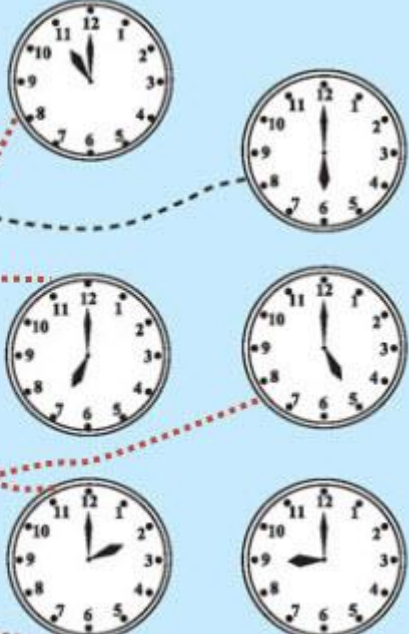
Em đi học lúc 7 giờ

Em học xong buổi sáng lúc 11 giờ

Em học buổi chiều lúc 2 giờ

Em tưới hoa buổi chiều lúc 5 giờ

Em đi ngủ lúc 9 giờ tối



The image shows the same six analog clocks as in the previous image. Red dotted lines connect the text boxes to the corresponding clocks: 'Em ngủ dậy lúc 6 giờ sáng' connects to the 6:00 clock, 'Em đi học lúc 7 giờ' connects to the 7:00 clock, 'Em học xong buổi sáng lúc 11 giờ' connects to the 11:00 clock, 'Em học buổi chiều lúc 2 giờ' connects to the 2:00 clock, 'Em tưới hoa buổi chiều lúc 5 giờ' connects to the 5:00 clock, and 'Em đi ngủ lúc 9 giờ tối' connects to the 9:00 clock.