

BÀI 1

Đề bài: Cửa hàng có 15 bút bê, đã bán đi 2 bút bê. Hỏi cửa hàng còn lại bao nhiêu bút bê ?

TÓM TẮT

Có : ... bút bê

Đã bán: ... bút bê

Còn lại : ... bút bê ?

Đáp án:

TÓM TẮT

Có : **15** bút bê

Đã bán: **2** bút bê

Còn lại : ... bút bê ?

BÀI GIẢI

Số bút bê còn lại ở cửa hàng là:

$15 - 2 = 13$ (bút bê)

Đáp số: **13** bút bê

BÀI 2

Đề bài: Trên sân bay có 12 máy bay, sau đó có 2 máy bay bay đi. Hỏi trên sân bay còn lại bao nhiêu máy bay ?

TÓM TẮT

Có : ... máy bay

Bay đi : ... máy bay

Còn lại : ... máy bay ?

Đáp án:

TÓM TẮT

Có : **12** máy bay

Bay đi : **2** máy bay

Còn lại : ... máy bay ?

Bài giải

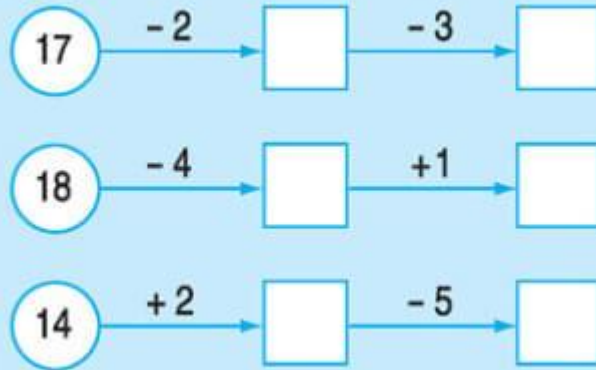
Số máy bay còn lại trên sân bay là:

$12 - 2 = 10$ (máy bay)

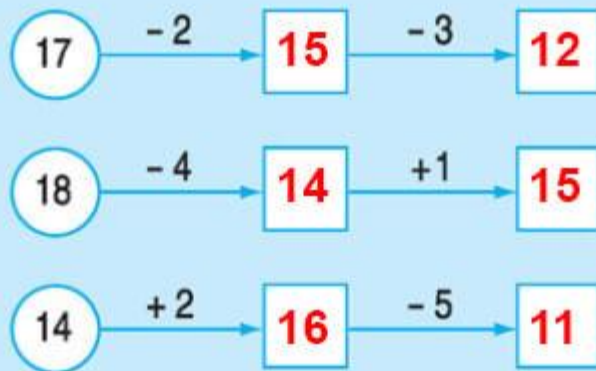
đáp số: **10** máy bay

BÀI 3

Đề bài: Điền số thích hợp vào ô trống:



Đáp án:



BÀI 4

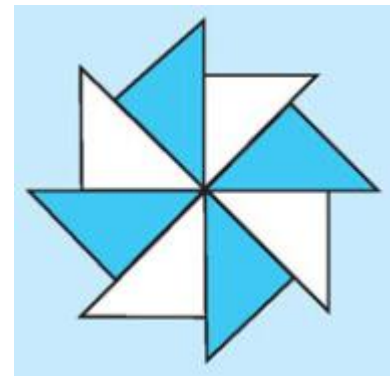
Đề bài:

Giải bài toán theo tóm tắt sau:

Có: 8 hình tam giác

Tô màu : 4 hình tam giác

Không tô màu: ... hình tam giác ?



Đáp án:

Số tam giác không tô màu là

$8 - 4 = 4$ (tam giác)

Đáp số: **4** tam giác