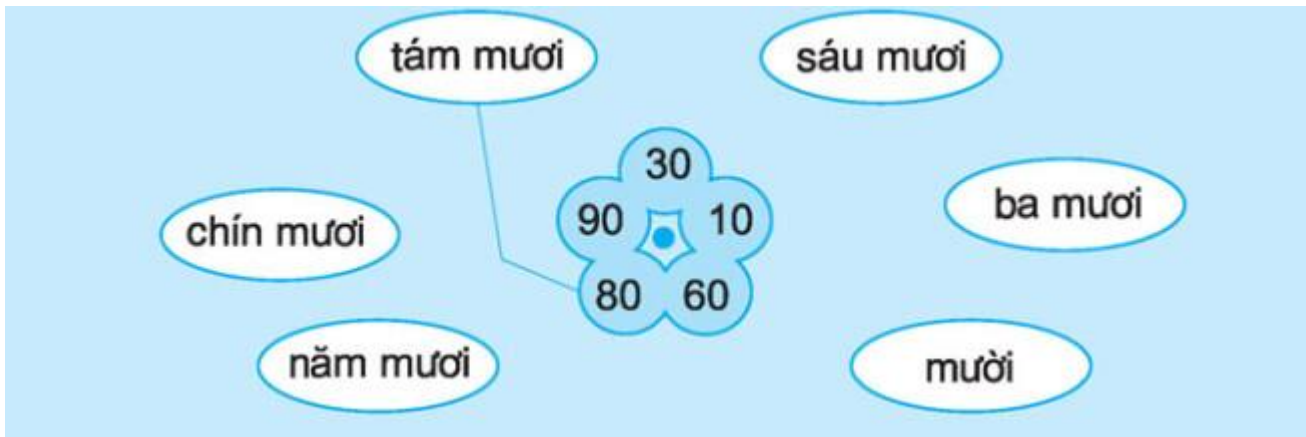
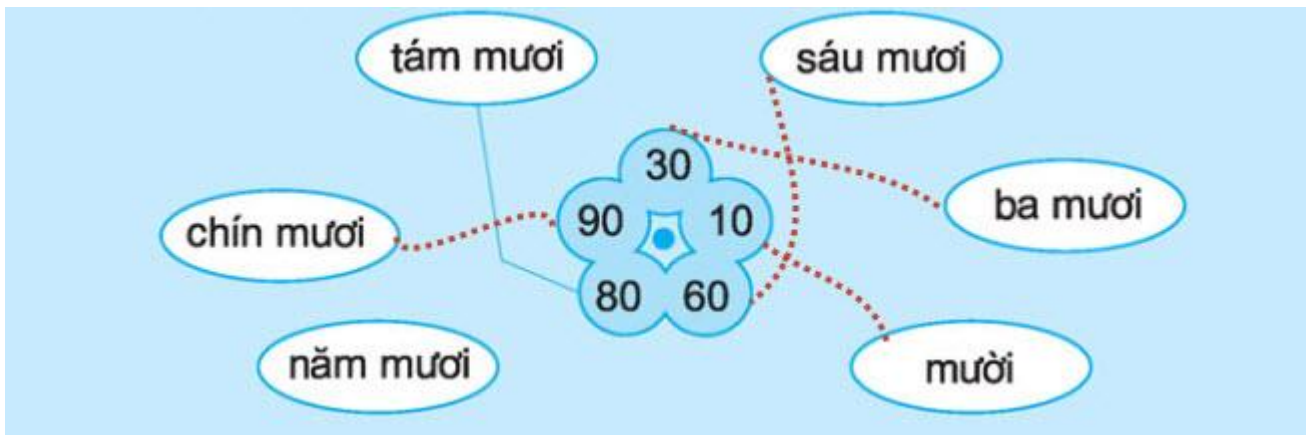


BÀI 1**Đề bài:** Nói (theo mẫu):**Đáp án:****BÀI 2****Đề bài:** Viết (theo mẫu)

- Số 40 gồm 4 chục và 0 đơn vị.
- Số 70 gồm...chục và ...đơn vị.
- Số 50 gồm...chục và...đơn vị.
- Số 80 gồm...chục vàđơn vị.

Đáp án:

- Số 70 gồm 7 chục và 0 đơn vị.

c) Số 50 gồm 5 chục và 0 đơn vị.

d) Số 80 gồm 8 chục và 0 đơn vị.

BÀI 3

Đề bài:

a) Khoanh vào số bé nhất: 70, 40, 20, 50, 30.

b) Khoanh vào số lớn nhất: 10, 80, 60, 90, 70.

Đáp án:

a) Khoanh vào số 20.

b) Khoanh vào số 90.

a) Khoanh vào số bé nhất :
70 , 40 , **20** , 50 , 30

b) Khoanh vào số lớn nhất :
10 , 80 , 60 , **90** , 70.


BÀI 4

Đề bài:

a) Viết số theo thứ tự từ **bé đến lớn** :

--	--	--	--	--

b) Viết số theo thứ tự từ **lớn đến bé** :



--	--	--	--	--

Đáp án:

a) Viết số theo thứ tự từ **bé đến lớn** :

20	50	70	80	90
----	----	----	----	----



b) Viết số theo thứ tự từ **lớn đến bé** :



80	60	40	30	10
----	----	----	----	----