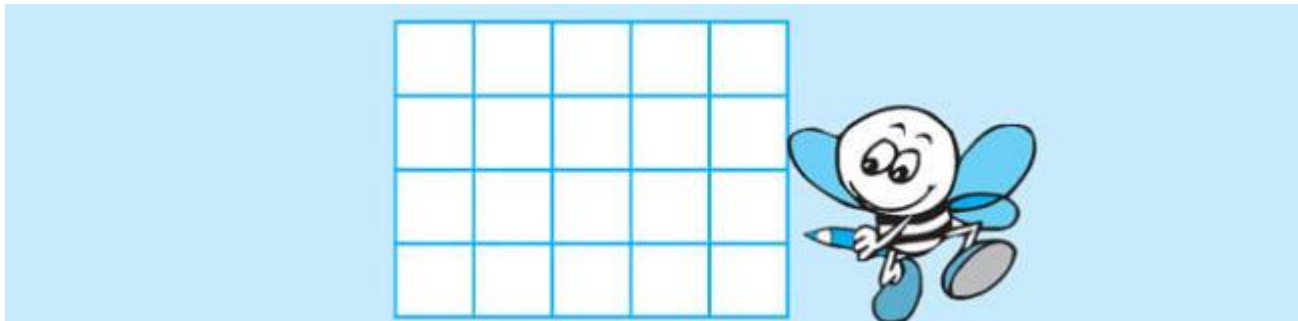


**BÀI 1**

**Đề bài:** Điền số từ 1 đến 20 vào ô trống:

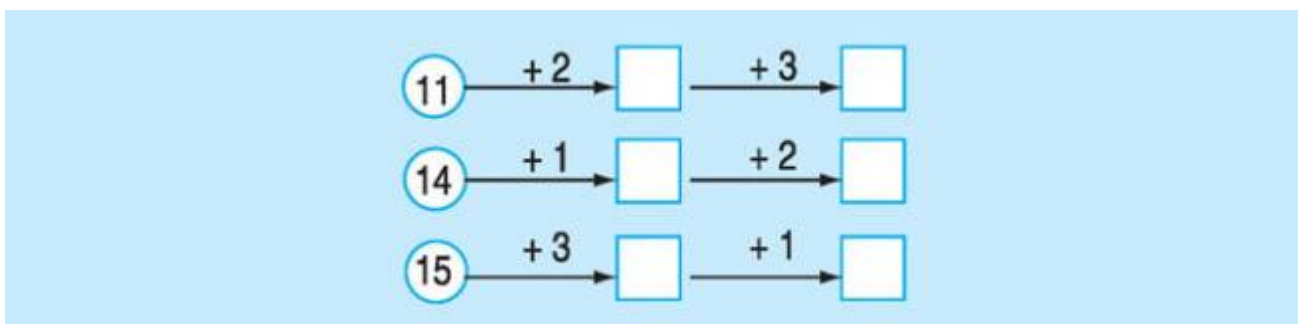


**Đáp án:**

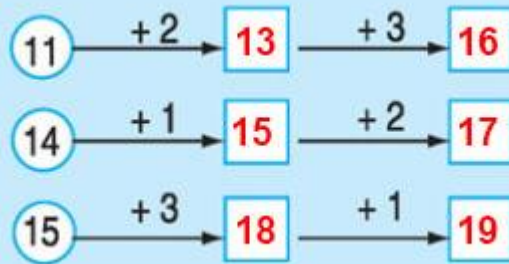


**BÀI 2**

**Đề bài:** Điền số thích hợp vào ô trống:



**Đáp án:**



### BÀI 3

**Đề bài:** Một hộp có 12 bút xanh và 3 bút đỏ. Hỏi hộp đó có tất cả bao nhiêu cái bút ?

**Đáp án:**

Số chiếc bút có trong hộp là:

$$12 + 3 = 15 \text{ (cái bút)}$$

Đáp số: **15** cái bút

### BÀI 4

**Đề bài:** Điền số thích hợp vào ô trống (THEO MẪU)

13	1	2	3	4	5	6	12	4	1	7	5	2	0
	14							16					

**Đáp án:**

13	1	2	3	4	5	6	12	4	1	7	5	2	0
	14	15	16	17	18	19		16	13	19	17	14	12