

GIẢI BÀI TẬP TOÁN LỚP 1

HƯỚNG DẪN CÁC LÀM VÀ ĐÁP ÁN BÀI TẬP TRANG 80 SGK

Hướng dẫn các giải và đáp án các bài tập 2, 3 và bài 4 tại trang 79 SGK môn Toán lớp 1 giúp các bạn tham khảo trước khi hướng dẫn các bé ôn tập lại những kiến thức đã được học trên lớp.

BÀI 1 trang 80 SGK Toán lớp 1

Đề bài: Tính

$8 + 1 = 9$

$7 + 2 = 9$

$6 + 3 = 9$

$5 + 4 = 9$

$1 + 8 = 9$

$2 + 7 = 9$

$3 + 6 = 9$

$4 + 5 = 9$

$9 - 8 = 1$

$9 - 7 = 2$

$9 - 6 = 3$

$9 - 5 = 4$

$9 - 1 = 8$

$9 - 2 = 7$

$9 - 3 = 6$

$9 - 4 = 5$

Đáp án:

$8 + 1 =$

$7 + 2 =$

$6 + 3 =$

$5 + 4 =$

$1 + 8 =$

$2 + 7 =$

$3 + 6 =$

$4 + 5 =$

$9 - 8 =$

$9 - 7 =$

$9 - 6 =$

$9 - 5 =$

$9 - 1 =$

$9 - 2 =$

$9 - 3 =$

$9 - 4 =$

BÀI 2 trang 80 SGK Toán lớp 1

Đề bài: Tính

$5 + \dots = 9$

$9 - \dots = 6$

$\dots + 6 = 9$

$4 + \dots = 8$

$7 - \dots = 5$

$\dots + 9 = 9$

$\dots + 7 = 9$

$\dots + 3 = 8$

$9 - \dots = 9$

Đáp án:

$5 + 4 = 9$

$9 - 3 = 6$

$3 + 6 = 9$

$4 + 5 = 8$

$7 - 2 = 5$

$0 + 9 = 9$

$2 + 7 = 9$

$5 + 3 = 8$

$9 - 0 = 9$

BÀI 3 trang 80 SGK Toán lớp 1

Đề bài: Điền dấu ($>$ = $<$)

$5 + 4 \dots 9$

$6 \dots 5 + 3$

$9 - 0 \dots 8$

$9 - 2 \dots 8$

$9 \dots 5 + 1$

$4 + 5 \dots 5 + 4$

Đáp án:

$5 + 4 = 9$

$6 < 5 + 3$

$9 - 0 > 8$

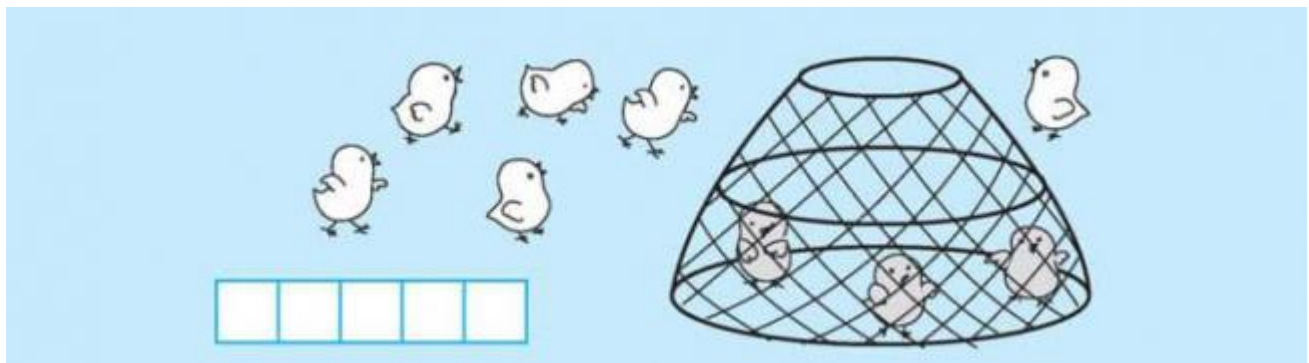
$9 - 2 < 8$

$9 > 5 + 1$

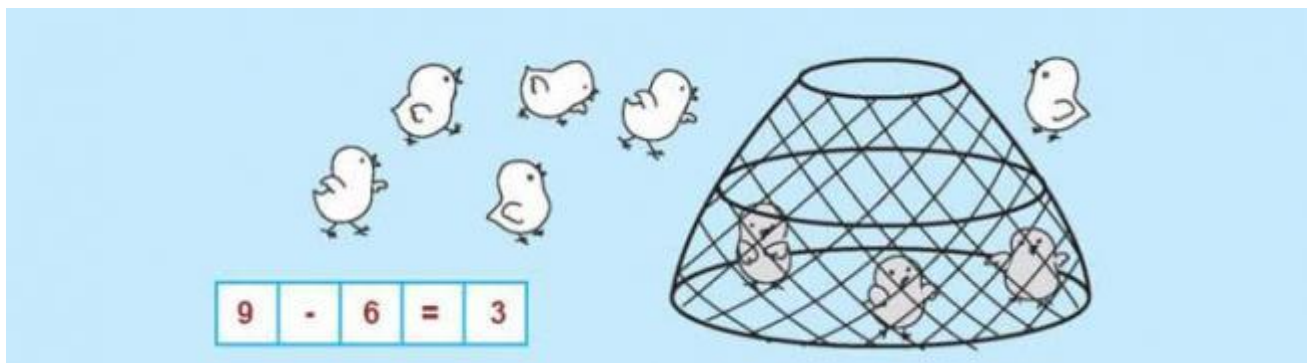
$4 + 5 = 5 + 4$

BÀI 4 trang 80 SGK Toán lớp 1

Đề bài: Viết phép tính thích hợp:

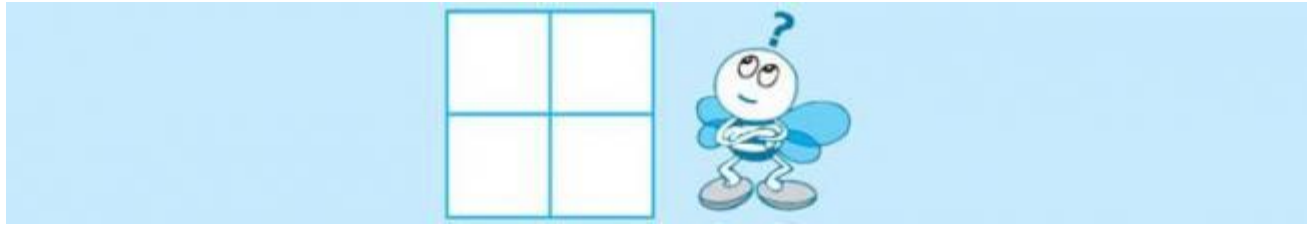


Đáp án:



BÀI 5 trang 80 SGK Toán lớp 1

Đề bài: Hình bên có mấy hình vuông.



Đáp án:

Hình bên có **5** hình vuông.