

HƯỚNG DẪN LÀM BÀI 1, BÀI 2 VÀ BÀI 3 TRANG 24

SÁCH GIÁO KHOA TOÁN LỚP 1

Xem và tải về hướng dẫn giải bài tập môn Toán lớp 1 các câu hỏi 1, câu 2 và câu 3 tại trang 24 sách giáo khoa. Tài liệu này sẽ giúp các bạn tham khảo trước để có thể hướng dẫn các bé ôn tập tại nhà những kiến thức mà bé đã học trên lớp.


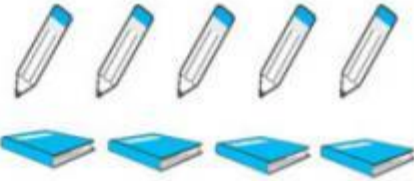


Bài 1: Điền dấu

3...2	4...5	2...3
1...2	4...4	3...4
2...2	4...3	2...4


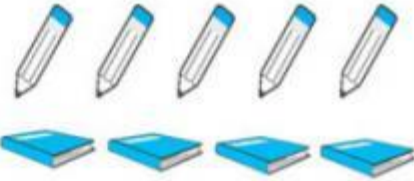


Đáp án:

3 > 2	4 < 5	2 < 3
1 < 2	4 = 4	3 < 4
2 = 2	4 > 3	2 < 4

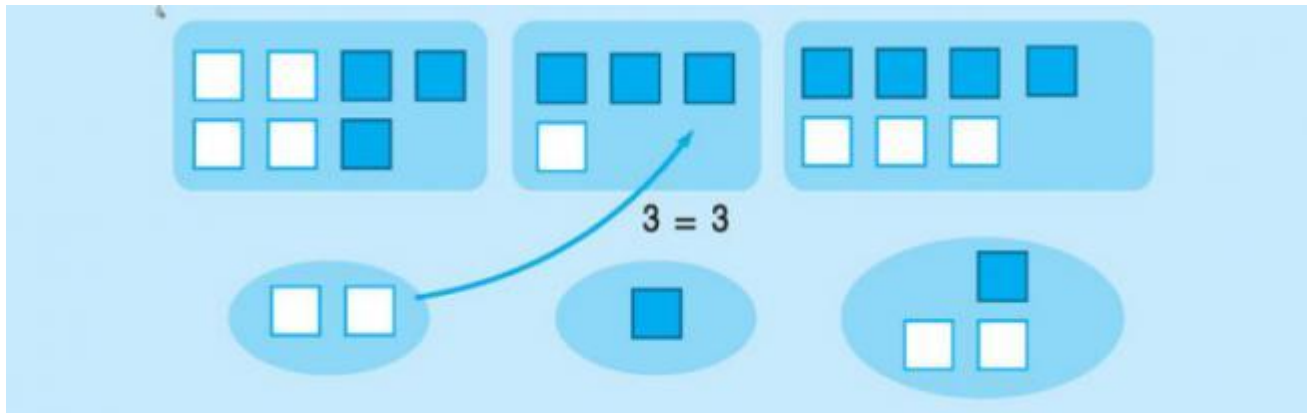
Bài 2: Viết (theo mẫu)

	
$3 > 2$ $2 < 3$	<div style="display: flex; justify-content: space-around;"> <div style="border: 1px solid black; width: 30px; height: 30px;"></div> <div style="border: 1px solid black; width: 30px; height: 30px;"></div> </div> <div style="display: flex; justify-content: space-around;"> <div style="border: 1px solid black; width: 30px; height: 30px;"></div> <div style="border: 1px solid black; width: 30px; height: 30px;"></div> </div>
	
<div style="border: 1px solid black; width: 80px; height: 30px; display: flex; justify-content: space-around;"> </div>	<div style="border: 1px solid black; width: 80px; height: 30px; display: flex; justify-content: space-around;"> </div>

Đáp án:

	
$3 > 2$ $2 < 3$	$5 > 4$ $4 < 5$
	
$3 = 3$	$5 = 5$

Bài 3: Làm cho bằng nhau (theo mẫu)



Đáp án:

