

## GIẢI TOÁN LỚP 1

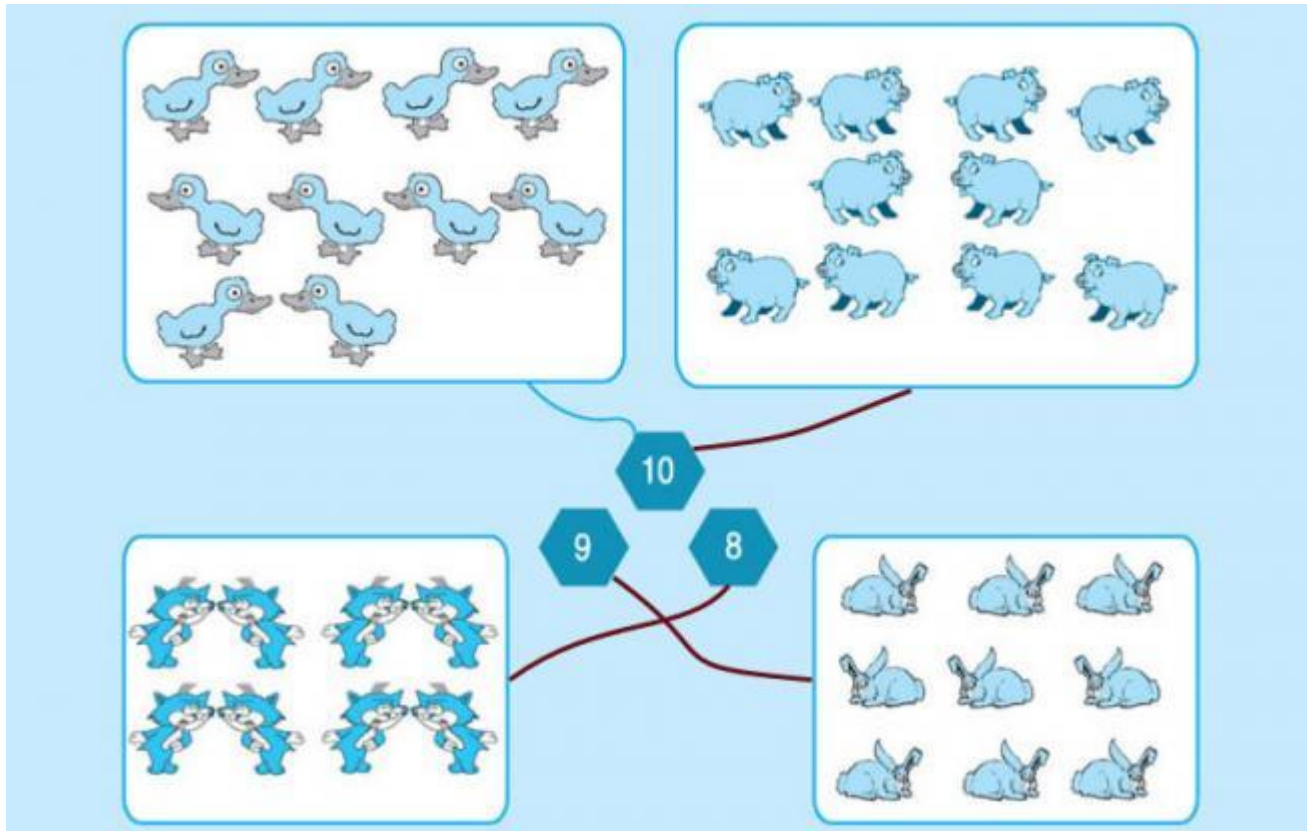
### HƯỚNG DẪN LÀM BÀI TẬP TRANG 38 SÁCH GIÁO KHOA

Đọc tài liệu xin chia sẻ hướng dẫn giải bài tập 1 và 2 của trang 38 sách giáo khoa môn toán lớp 1 để giúp các bạn tham khảo trước kiến thức trước khi kèm các bé ôn tập tại nhà các kiến thức đã được học trên lớp.

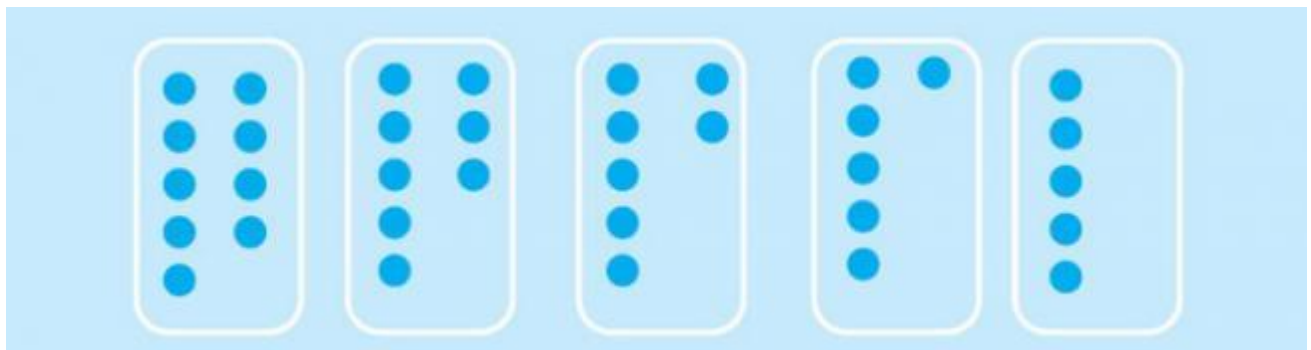
#### **Bài 1:** Nói (theo mẫu)

The diagram consists of four rounded rectangular boxes arranged around three central hexagonal numbers. The top-left box contains 10 ducks arranged in three rows (4, 4, 2). The top-right box contains 10 sheep arranged in three rows (4, 3, 3). The bottom-left box contains 8 foxes arranged in two rows of four. The bottom-right box contains 9 rabbits arranged in three rows (3, 3, 3). In the center, three blue hexagonal numbers are arranged in a triangle: 10 at the top, 9 at the bottom left, and 8 at the bottom right. A thin blue line connects the top-left box to the number 10.

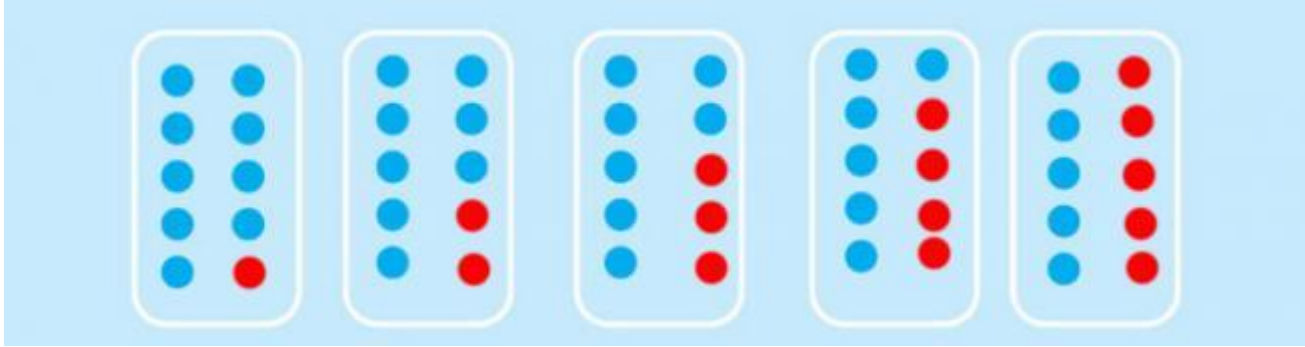
#### **Đáp án**



**Bài 2:** Vẽ thêm cho đủ 10 chấm tròn



**Đáp án**



---