

## GIẢI BÀI TẬP TOÁN LỚP 3

### VẼ TRANG TRÍ HÌNH TRÒN

**Bài 1** (trang 112 SGK Toán 3):

Vẽ hình theo các bước sau:

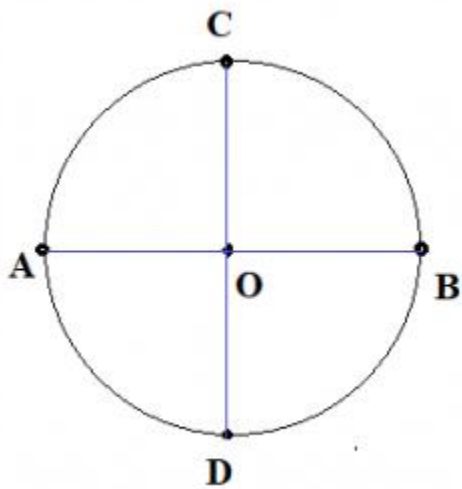
**Bước 1** : Vẽ hình tròn tâm O, bán kính OA.

**Bước 2** : Vẽ trang trí hình tròn(tâm A, bán kính AC; tâm B, bán kính BC).

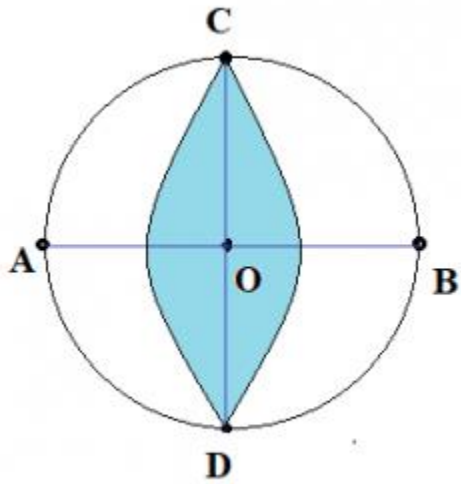
**Bước 3** : Vẽ trang trí hình tròn (tâm C, bán kính CA; tâm D, bán kính DA).

**Hướng dẫn giải:**

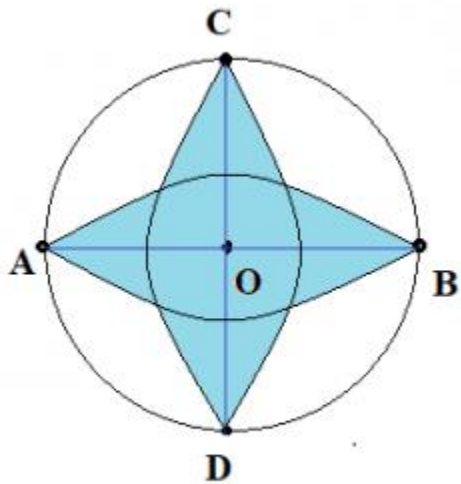
**Bước 1** : Vẽ hình tròn tâm O, bán kính OA.



**Bước 2** : Vẽ trang trí hình tròn(tâm A, bán kính AC; tâm B, bán kính BC).



**Bước 3 :** Vẽ trang trí hình tròn (tâm C, bán kính CA; tâm D, bán kính DA).



**Bài 2** (trang 112 SGK Toán 3):

Tô màu hình đã vẽ trong bài 1

**Hướng dẫn giải:**

Các em tự tô màu theo sở thích của mỗi bạn.