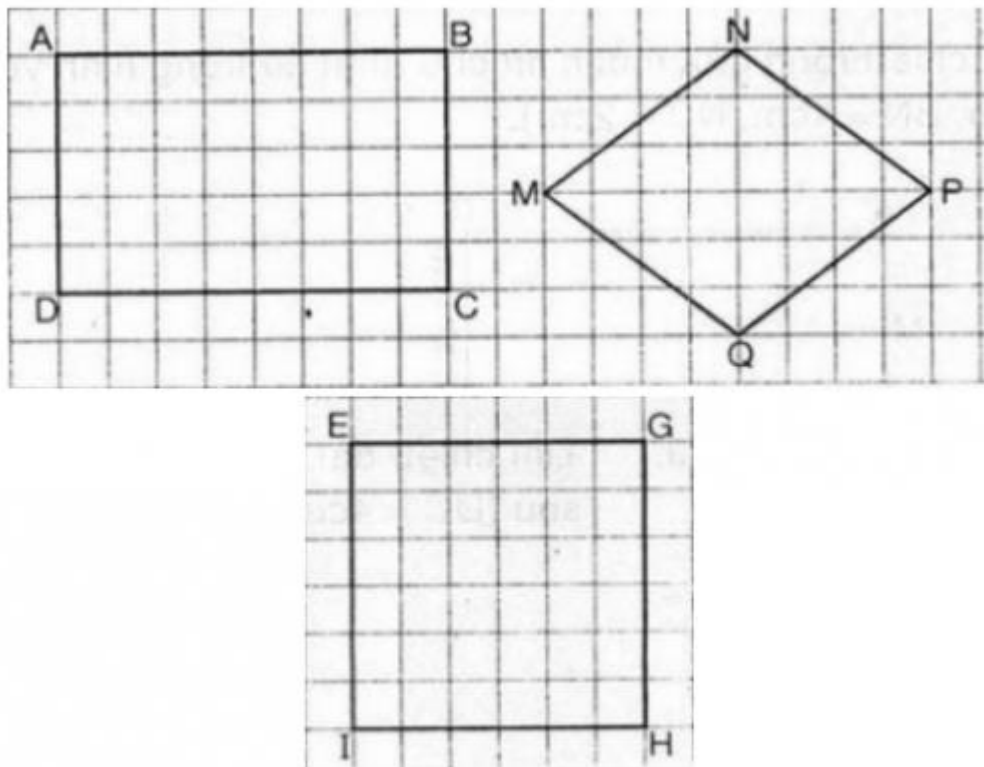


## GIẢI BÀI TẬP TOÁN LỚP 3

### HÌNH VUÔNG

**Bài 1** (trang 85 SGK Toán 3):

Trong các hình dưới đây, hình nào là hình vuông?

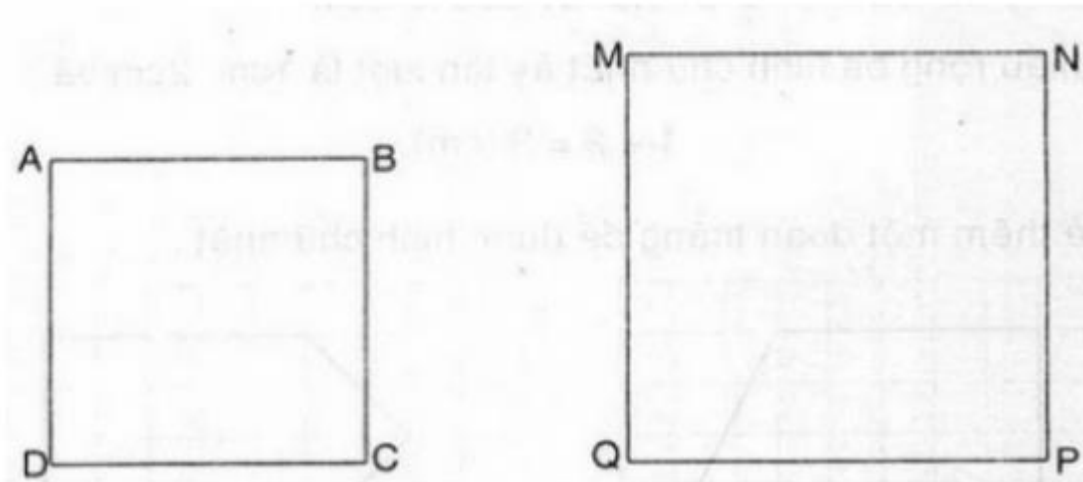


**Hướng dẫn giải:**

- \* Hình EGHI là hình vuông
- \* Hình ABCD và Hình MNPQ không phải là hình vuông

**Bài 2** (trang 86 SGK Toán 3):

Đo rồi cho biết độ dài của mỗi hình vuông sau:



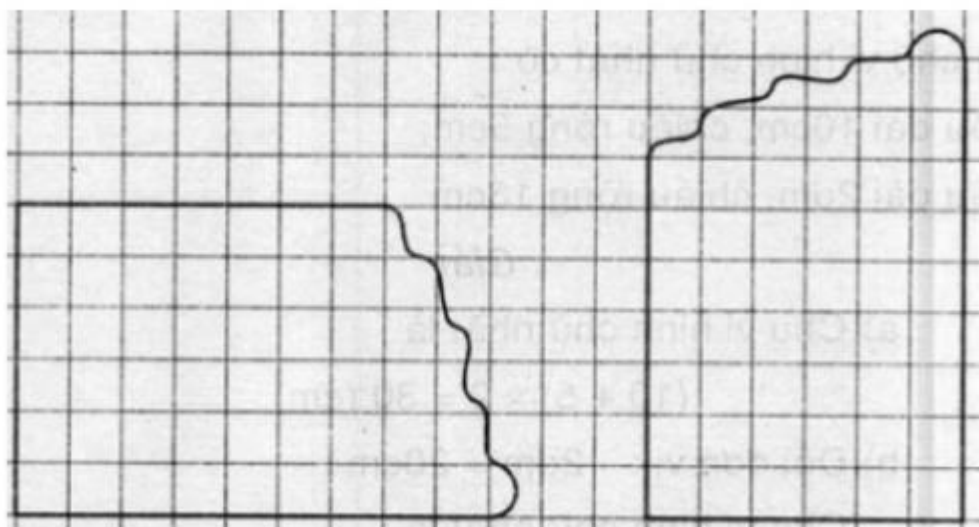
**Hướng dẫn giải:**

+ Độ dài cạnh của hình vuông ABCD là 3cm

+ Độ dài cạnh của hình vuông MNPQ là 4cm.

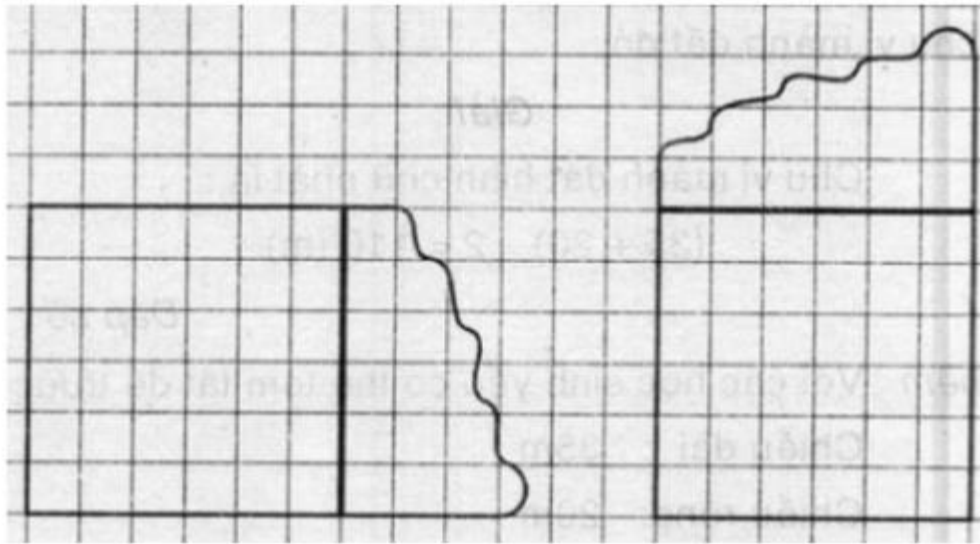
**Bài 3** (trang 86 SGK Toán 3):

Kẻ thêm đoạn thẳng để được hình vuông?

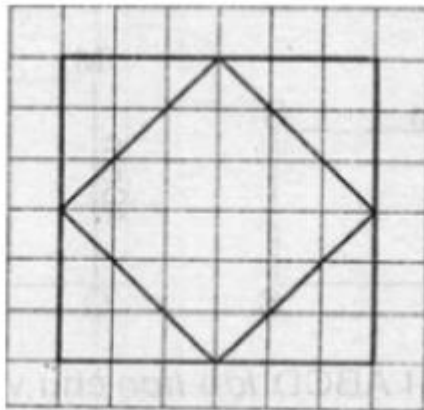


**Hướng dẫn giải:**

Có thể kẻ thêm đoạn thẳng như sau:



**Bài 4** (trang 86 SGK Toán 3): Vẽ theo mẫu :



**Hướng dẫn giải:**

Học sinh chấm các điểm mốc để được một hình vuông nhỏ rồi dựa vào các ô trống để vẽ nốt hình vuông còn lại