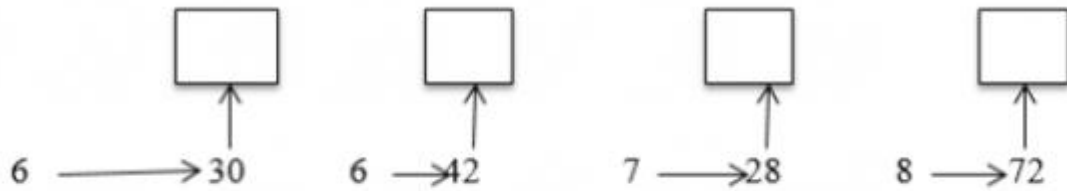


GIẢI BÀI TẬP TOÁN LỚP 3

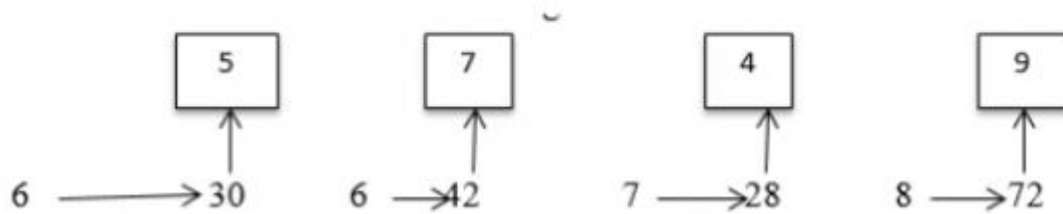
GIỚI THIỆU BẢNG CHIA

Bài 1 (trang 75 SGK Toán 3):

Dùng bảng chia để tìm số thích hợp ở ô trống (theo mẫu):



Hướng dẫn giải:



Bài 2 (trang 75 SGK Toán 3):

Số ?

Số bị chia	16	45	24		72		81	56	54
Số chia	4	5		7	9	9		7	
thương			6	3		8	9		9

Hướng dẫn giải:

Số bị chia	16	45	24	21	72	72	81	56	54
Số chia	4	5	4	7	9	9	9	7	6
thương	4	9	6	3	8	8	9	8	9

Bài 3 (trang 76 SGK Toán 3):

Minh có một quyển truyện dày 132 trang. Minh đã đọc được $\frac{1}{4}$ quyển truyện đó. Hỏi Minh còn phải đọc bao nhiêu trang nữa thì đọc xong quyển truyện?

Hướng dẫn giải:

Số trang sách Minh đã đọc là:

$$132 : 4 = 33 \text{ (trang)}$$

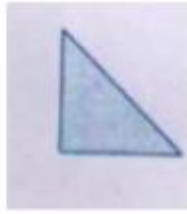
Số trang sách Minh còn phải đọc nữa là:

$$132 - 33 = 99 \text{ (trang)}$$

Đáp số: 99 trang

Bài 4 (trang 76 SGK Toán 3):

Có 8 hình tam giác, mỗi hình như hình bên:



Hãy xếp thành hình chữ nhật

Hướng dẫn giải:

